

سوالات متناسب با برگزاری مسابقات بارویکرد جهاد تبیین^۱

برگرفته از کتب حجت الاسلام راجی

شامل:

صعود چهل ساله

معجزه تولید

اصول اقتدار

جهاد امید آفرین

جعبه سیاه


منظومه جهاد

دوگانه های سر نوشت ساز

سنگ محک


۱ - مسئولین برگزاری مسابقات جهت دریافت پاسخنامه ها به ادمین کانال سعداء [soada_ir](https://t.me/soada_ir) در ایتا یا تلگرام پیام ارسال فرمایند.





فصل اول: سوالات عمومی

سوالات این فصل قابلیت پاسخگویی بدون مطالعه و رجوع به کتب را دارند.



۱-

طبق فرمایش مقام معظم رهبری، مسئولان نظام باید چگونه باشند که فساد در آن نظام راه پیدا نکند؟

(الف) باتقوا

(ب) متخصص

(ج) فداکار

(د) شجاعت

۲-

پیامبر مکرم اسلام (ص) می‌فرمایند: «هرکس جلودار و امام عده‌ای از مسلمانان گردد، در حالی که، پس خائن به خدا، رسولش و

مسلمانان خواهد بود.

الف) می‌داند شایسته نیست

ب) می‌داند مسئولیت پذیر نیست

ج) می‌داند در بین مسلمین فردی بهتر از او وجود دارد

د) می‌داند که امانت‌دار نیست

۳-

در دوران پهلوی تعداد کدام گروه از زنان بیش از ۴ برابر تعداد کل زنان دانشگاهی بود؟

الف) زنان بدکاره

ب) زنان ورزشکار

ج) متخصص مامایی

د) پزشک جراح

۴-

به گفته‌ی اردشیر زاهدی محمدرضا شاه با دیدن چه صحنه‌ای دست و پایش به وضوح می‌لرزید؟

الف) دیدن فقر مردم

ب) دیدن بیکاری جوانان

ج) دیدن زنان مو طلایی

د) به قدرت رسیدن مصدق

۵:

در دوران پهلوی تعداد کدام یک از مشاغل در تهران ۳ برابر کتابخانه‌های کل کشور بود؟

الف) استاد دانشگاه

ب) مشروب فروشی

ج) کتاب فروشی

د) معلم

۶:

چه چیزی در دوران پهلوی در جهان سرآمد و معروف بود؟

الف) دانشگاه‌ها

ب) کارخانه‌ها

ج) علم و فناوری

د) خانه‌های فساد (کاباره)

۷-

اشرف پهلوی در مصاحبه به مناسبت سالروز کشف حجاب، آینده‌ی زن ایرانی را چگونه

پیش‌بینی می‌کرد؟

الف) پیشرفت زنان در زمینه علمی

ب) پیشرفت زنان در زمینه فرهنگی

ج) افزایش حضور زنان در زمینه سیاست

د) حذف دو واژه‌ی «چادر و حجاب» از کتاب‌های لغت

۸-

در نوشته‌های حسین فردوست رئیس دفتر ویژه اطلاعات شاه، اشرف پهلوی چگونه معرفی شده؟

الف) سیاست‌مدارترین زن

ب) ثروتمندترین زن ایران

ج) فاسدترین زن جهان

د) گستاخ‌ترین زن دربار

۹-

رهبر انقلاب می‌فرمایند: اگر آدم‌های کارآمد و نداشته باشند، کارآمدی آنها به نفع مردم تمام نخواهد شد.

ب) صبر و گذشت

الف) امانت و صداقت

ج) تدبیر و تخصص د) کفایت و صلاحیت

۱۰-

چه کسی این جمله را درباره‌ی رهبر انقلاب گفته است؟ «به عنوان منتقد ایشان اقرار می‌کنم که حتی یک نقطه‌ی خاکستری، نه تاریک، در زندگی اقتصادی ایشان و خاندانش نمی‌شود پیدا کرد»

الف) مصطفی‌کواکبیان

ب) مصطفی‌تاجزاده

ج) مهاجرانی در گفتگو با بی‌بی‌سی

د) محمد نوری زاده

۱۱-

قرآن کریم کدام ویژگی اخلاقی را اینگونه معرفی می‌کند؟ «آنچه را از دست داده‌اید به خاطرش غمگین نشوید و آنچه را خدا به شما داده به خاطرش مغرور نگردید»

الف) امانت‌داری ب) صداقت

ج) زهد و بی‌اعتنایی به دنیا د) صبر

۱۲-

کدامیک از این افراد با انتصاب آیت ...
خامنه‌ای به رهبری مخالفت کرد چه کسی بود؟

الف) اکبر هاشمی رفسنجانی

ب) آیت الله منتظری

ج) آیت الله مشکینی

د) آیت ... خامنه‌ای

۱۳-

به گفته یکی از دانشمندان بزرگ آلمان، کدام
شخصیت، نظام اسلامی را از اساس دموکراسی
به نظام سلطه و زور تبدیل کرد و اگر این
موضوع نبود، اسلام عالم را فرا می گرفت؟

الف) عمر و عاص ب) شبت

ج) ابوسفیان د) معاویه

۱۴-

دلیل جنگ طلحه و زبیر به رغم بیعتی که با
حضرت علی علیه السلام کرده بودند، چه بود؟

الف) به دست آوردن سرمایه‌های هنگفت

ب) مشکل مالی

ج) بر حق ندانستن امام علی علیه السلام

د) جاه طلبی و حکومت بصره و کوفه

۱۵-

کدام گزینه از ابتکار عمل نیروهای سپاه در جنگ تحمیلی بود؟

الف) اتکاب بر نیروهای پیاده

ب) اجرای عملیات در شب

ج) ایجاد شبکه اطلاعاتی در خطوط

د) همه موارد

۱۶-

خاویر پرز دکوئیار، دبیر کل سابق سازمان ملل، این جمله را درباره‌ی چه کسی گفته است؟
«تاکنون شخصیتی سیاست‌مدار تر و هوشمندتر از رئیس جمهور شما ندیده‌ام»

ب) محمدعلی رجایی

الف) پوتین

د) مکرون

ج) آیت‌الله خامنه‌ای

۱۷-

کدام مورد از تجربه‌های اعتماد به آمریکا

می باشد؟

الف) فروپاشی شوروی و سقوط گورباچف

ب) سقوط محمد مرسى از قدرت

ج) کودتای ۲۸ مرداد و سقوط دولت مصدق

د) همه موارد

۱۸-

کدام مورد مصداق لحظه شناسی و موقعیت شناسی نیست؟

الف) حرکت عظیم مردمی در ۹ دی جهت خنثی کردن فتنه

ب) سازش برخی علما در مقابل خودکامگی رضا خان پهلوی

ج) حضور برخی علما در دربار پادشاهان جهت پا برجا ماندن شیعه

د) تظاهرات مردم در مقابل فتنه‌ی کوی دانشگاه تهران

۱۹-

بر اساس یکی از مقالات مؤسسه‌ی آمریکایی «کارنگی»، چه کسی به عنوان قدرتمندترین

رهبر جهان معرفی شده است؟

الف) گاندی ب) سید حسن نصر ا...

ج) آیت ا... خامنه‌ای د) هیتلر

۲۰-

کدام مورد از وظایف کمیسیون تحقیق مجلس خبرگان می‌باشد؟

الف) بررسی و تدوین قوانین مربوط به خبرگان

ب) بررسی امور مالی و اداری مجلس خبرگان

ج) نظارت بر عملکرد رهبری

د) آگاهی مستمر از تحولات مهم داخلی و جهانی

۲۱-

دلیل عقب نشینی آمریکا از مواضع بازرسی از مراکز نظامی و محدود شدن برنامه موشکی و تهدید نظامی ایران چه بود؟

الف) تهدید نظامی از جانب ایران

ب) هشدار رهبر انقلاب

ج) تظاهرات مردمی علیه آمریکا

د) همه موارد

۲۲-

کدام مورد در مورد اصول انقلاب اسلامی صحیح می‌باشد؟

الف) با آمدن و رفتن دولت‌ها عوض می‌شوند

ب) همواره قابل تغییر است

ج) همواره مشخص و ثابت است

د) برگرفته از تجربیات انقلاب‌های جهان

۲۳-

کدام مورد از دستاوردهای ایران بعد از انقلاب می‌باشد؟

الف) مقام دوم در زمینه تولید نانو دارو

ب) تنها کشور تولیدکننده صنعتی بیو ایمپلنت

ج) کشف ژن نابینایی برای اولین بار در ایران

د) همه موارد

۲۴-

به گزارش نشریه فایننشال تایمز و مؤسسه CCFD فرانسوی، در بین دزدی‌های دیکتاتورهای سده اخیر چه کسی رتبه‌ی اول را از آن خود کرده است؟

الف) سوهارتو ب) صدام حسین

ج) محمدرضا پهلوی د) برناردندوف

۲۵-

طبق بیانیه گام دوم انقلاب رهبر خطاب به ملت ایران نخستین و ریشه‌ای‌ترین جهاد را چه چیزی معرفی می‌کند؟

الف) جهاد با نفس ب) جهاد علمی

ج) جهاد امید آفرینی د) جهاد اقتصادی

۲۶-

یکی از مهم‌ترین وظایف شبکه‌های ماهواره‌ای چیست؟

الف) ایجاد شور و هیجان ب) بازگو کردن واقعی وقایع

ج) ایجاد حس ناامیدی در بین مردم د) تبدیل نقاط ضعف به قوت

۲۷-

از آزمایش زیر کدام جمله استنباط می‌شود؟

دانشمندان می‌دانند که وقتی موش‌ها را به داخل استخر بیندازند ۱۷ دقیقه بیشتر زنده

نمی‌مانند طی یک آزمایش یکبار قبل از رسیدن به ۱۷ دقیقه موش‌ها را از آب بیرون کشیدند و بعد از کمی استراحت دوباره موش‌ها را به داخل استخر انداختند موش‌ها ۲۶ ساعت دوام آوردند.

الف) موش‌ها شناگرهای ماهری هستند که ۲۶ ساعت در آب زنده می‌مانند

ب) اختلاف ۱۷ دقیقه و ۲۶ ساعت زیاد نیست

ج) امید بهترین و بالاترین قوه‌ی محرک زندگی است

د) دانشمندان موش آزار هستند

-۲۸

شرکت معتبر و پیشرفته سامسونگ کره جنوبی فعالیت خود را با صادرات چه کالایی آغاز کرد؟

الف) تلویزیون رنگی

ب) محصولات چرم

ج) کیبورد

د) سبزیجات و ماهی خشک

۲۹-

چه کسی با فرمان امام خمینی برای شکستن حکومت نظامی توسط مردم در روز ۲۲ بهمن مخالف بود؟ امام چگونه ایشان را مجاب کردند؟

الف) آقای طالقانی - این حکم از جانب حضرت حجت علیه السلام است.

ب) شهید مطهری - امر همان هست که من بگویم و باید انجام بدهید.

ج) حجه الاسلام خامنه ای - باید کار را فیصله داد و به پایان رساند

د) شهید بهشتی - این اقدام برای به پیروزی رساندن انقلاب نیاز است و باید انجام شود.

۳۰-

پر تکرارترین آیه‌ی قرائت شده توسط رهبر حکیم انقلاب در سخنرانی‌های مختلف‌شان کدام آیه قرآن کریم است؟

الف) آیه امید ب) آیه جهاد

ج) آیه صبر د) آیه دشمنی با دشمن

۳۱-

کدام گزینه در نظر بعضی از سران اروپایی و

آمریکایی در مورد ایران، صحیح نیست؟

الف) پرودی: سی سال است ایران را در نظر داریم شما فقط مقاومت نکردید پیشرفت هم کردید

ب) پرودی: شش ماه هم نمی‌توانستیم دوام بیاوریم اگر فشاری که به دولت شما وارد می‌شود به دولت ما وارد می‌شد

ج) سخنگوی پنتاگون: توان پهبادی ایران پیشرفت زیادی کرده است و مدام دقیق تر و مرگبارتر میشوند.

د) کاخ سفید: ایران برای کمک به یمن به عربستان سعودی و امارات حمله خواهد کرد

۳۲-

رتبه‌ی ایران در طراحی و ساخت و پرتاب ماهواره بین کشورهای جهان چندم است؟

ب) ۱۳۴

الف) ۱۰

د) ۵۶

ج) ۷۱

۳۳-

رتبه‌ی ایران در حوزه‌ی سلول‌های بنیادین کشورهای جهان کدام است؟

الف) ۱۲

ب) ۲۴

ج) ۲

د) ۱۶۲

-۳۴

کدام کشور برحسب قدرت توپخانه رتبه‌ی ۶ و در تعداد کشتی‌های زیردریایی رتبه ۵ و در ناوگان تانک‌های جنگی رتبه ۷ دنیا را داراست؟

الف) چین

ب) آمریکا

ج) ایران

د) فرانسه

-۳۵

باتوجه به گزارش گلوبال تروریسم دیتا بیس GTD راجع به تعداد و شدت عملیات‌های تروریستی جهان، تعبیر «امن‌ترین کشور دنیا در ناامن‌ترین منطقه‌ی کره‌ی زمین تبدیل شده است» برای کدام کشور میتوان به کار برد؟

الف) ایران

ب) فلسطین

ج) امارات

د) ترکیه

-۳۶

کدام رتبه‌بندی در مورد ایران صحیح نیست؟

الف) ۵ درصد مقالات داغ دنیا توسط ایران

نوشته می‌شود.

(ب) ۳۱ درصد مقالات پُر استناد دنیا توسط ایرانیان نوشته شده است.

(ج) ایران رتبه ۱۵ در تولید علم دنیا را داراست.

(د) ایران در ۴۰ سال قبل جزء ۵۰ کشور اول دنیا در تولید علم بوده است.

۳۷-

کدام مقایسه رتبه ایران از حیث تعداد اختراعات ثبت شده در قبل از انقلاب و بعد از انقلاب را نشان می‌دهد؟

(ب) ۷ به ۳۰

(الف) ۷ به ۳۰

(د) ۱۵ به ۵۰

(ج) ۱۵ به ۵۰

۳۸-

نرخ ثبت نام در مدارس ابتدایی در ایران از ۵۹٫۳ درصد در قبل از انقلاب به..... درصد بعد از انقلاب رسیده است.

(ب) ۹۹٫۲ درصد

(الف) ۱۰۰ درصد

(د) ۸۷٫۳ درصد

(ج) ۷۸٫۴ درصد

۳۹-

نرخ بی‌سوادی زنان در قبل از انقلاب بود و بعد از انقلاب رسیده است.

الف) ۷۰-۸۰ درصد - ۲۰ درصد

ب) ۵۰-۶۰ درصد - کمتر از ۱۰ درصد

ج) ۷۰-۸۰ درصد - کمتر از ۱۰ درصد

د) هیچ کدام

۴۰-

به گزارش WEF، کشور ایران رتبه چندم دنیا در بحث برابری نسبت دختر به پسر در تحصیلات ابتدایی را دارد؟

الف) دهم (ب) بیست و سوم (ج) اول (د) شانزدهم

۴۱-

پل ضد بمبی که طریقه ساخت آن در دانشگاه های دنیا تدریس میشود توسط چه کشوری و در چه جنگی ساخته شد؟

الف) ژاپن - جنگ جهانی دوم

ب) شوروی - جنگ جهانی اول

ج) عراق - حمله به کویت

۴۲- (د) ایران - ۸ سال جنگ تحمیلی با عراق

۴۲-

موفق ترین و پیچیده ترین و بزرگ ترین عملیات هوایی دنیا، کدام عملیات و توسط چه کشوری انجام شده است؟

الف) واقعه گرنیکا - اسپانیا

ب) حمله برق آسا - لهستان

ج) عملیات تنبیه - بریتانیا

د) عملیات H^۳ - ایران

۴۳-

پایه گذار فرقه های بائیت و بهائیت چه کشوری بود؟

الف) عربستان سعودی

ب) عراق

ج) اسرائیل

د) بریتانیا

۴۴-

بلیدرانر شناوری با سرعت ۸۰ نات که لقب سریع ترین شناور سطحی نظامی جهان را دارند ساخت کدام کشور است؟

الف) ایران

ب) آمریکا

ج) فرانسه

د) آلمان

۴۵-

در قرآن کریم امر به چه چیزی بیش از امر به نماز تکرار شده است؟

- الف) جهاد
ب) صبر
ج) زکات
د) امر به معروف و نهی از منکر

۴۶-

امام باقر علیه السلام چه چیزی را قله و اوج عظمت اسلام می دانند؟

- الف) زکات
ب) نماز
ج) جهاد
د) ایثار

۴۷-

به بیان حضرت فاطمه زهرا علیها السلام در خطبه فدکیه چه چیزی عزت اسلام است؟

- الف) امر به معروف و نهی از منکر
ب) جهاد

- ج) از خودگذشتگی
د) صبر و استقامت

۴۸-

مهم ترین مصداق جهاد کبیر کدام یک از ابعاد جهاد می باشد؟

ب) جهاد اجتماعی

الف) جهاد نظامی

د) جهاد سیاسی

ج) جهاد اقتصادی

۴۹-

کدام یک از ابعاد جهاد، ریشه‌ی تمام جهاد هاست و اگر نباشد بقیه جهادها به نتیجه نمیرسد؟

الف) جهاد فرهنگی

ب) جهاد فکری و تبیینی

ج) جهاد علمی

د) جهاد اقتصادی

۵۰-

کدام مورد از مصادیق جهاد فکری می‌باشد؟

الف) جهاد روشنگری

ب) جهاد تبیینی

ج) رفع شبهات و شایعات

د) همه موارد

۵۰-

ترندهای غربی‌ها برای حفظ برتری علمی خود و جلوگیری از پیشرفت علمی جوامع چه می‌باشد؟

- الف) تثبیت عقب ماندگی همیشگی و گرفتن اراده‌ی مبارزه از آنها و القای نمی‌توانید به آنها
- ب) صادرات محصولات نهایی علمی و فناوری برای جلوگیری از پیشرفت علمی در داخل کشورها
- ج) در دسترس قرار دادن علوم از رده خارج و غیر دسته اول برای سایر ملت‌ها
- د) همه موارد

۵۲-

- کدام مورد از خدمات علمی شهید دکتر سعید کاظمی آشتیانی در عرصه‌ی جهاد می‌باشد؟
- الف) تاسیس انستیتورازی
- ب) تاسیس پژوهشکده رویان
- ج) ساخت موشک‌های نقطه زن
- د) ساخت دستگاه MRI

۵۳-

- مهم‌ترین رمز ماندگاری مفاتیح نوشته‌ی شیخ عباس قمی چه بود؟
- الف) تقوا
- ب) احسان به والدین
- ج) اخلاص
- د) امانت‌داری

۵۴-

به فرموده ی امام جواد علیه السلام چه چیزی سخت تر از اصل کار است؟

الف) به نتیجه نرسیدن کار

ب) ایستادگی و استمرار بر کار

ج) صبوری در کار

د) رعایت تقوا در انجام کار

۵۵-

طبق فرمایش حضرت علی علیه السلام در نهج البلاغه، ارزش هر انسان به اندازه چه چیزی می باشد؟

الف) همت

ب) تقوا

ج) اخلاص

د) امانت داری

۵۶-

کدام مورد لازمه ی شناخت عمیق و همه جانبه مسائل می باشد؟

الف) هدف، وظیفه، مراحل و موانع راه را مد نظر بگیریم

ب) بالابردن میزان آگاهی ها درباره ی مساله ی مورد بررسی در حد مطلوب و کافی

ج) استفاده از شیوه و ابزار های متناسب با مساله ی مورد بررسی

(د) همه موارد

۵۷-

مفهوم بصیرت چیست؟

(الف) درک شرایط حاکم و تبعیت از آن

(ب) لحظه‌شناسی

(ج) تشخیص ضرورت و اقتضای هر زمان

(د) آگاهی به تمام مسائل و امور در حوزه‌های مختلف

۵۸-

کدام یک از لوازم و شروط جهاد لازمه‌ی تشخیص حق از حق‌نما می‌باشد؟

(الف) بصیرت

(ب) قاطعیت

(ج) لحظه‌شناسی

(د) تجربه

۵۹-

خداوند در قرآن کریم چه چیزی را ذکر بیان می‌کند؟

(الف) قرآن

(ب) نماز

(ج) اهل بیت

(د) همه موارد

۶۰-

طبق نظر شهید مرتضی آوینی، مومن اگر داشته باشد، نمی تواند قیام کند و عصر ما، عصر قیام است.

الف) حب نفس ب) وابستگی

ج) حب دنیا د) جاه طلبی

۶۱-

اولین ویژگی و صفت عباد الرحمن که در قرآن آمده ، کدام است؟

الف) صبر ب) دوری از تکبر

ج) اخلاص د) اخلاق نیکو

۶۲-

کدام مورد، از آثار عجب و تکبر نیست؟

الف) رسیدن به شهرت

ب) از بین رفتن نیکی ها

ج) مانع کمال

د) هلاکت

۶۳-

کدام گناه، شیطان را بر انسان مسلط می‌کند؟

الف) حب دنیا

ب) کاهلی در نماز

ج) رباخواری

د) تکبر و عجب

۶۴-

محمد رضا شاه پهلوی توسط کدام قدرت به سلطنت رسید؟

الف) آمریکا

ب) انگلیس

ج) روسیه

د) فرانسه

۶۵-

دهه پنجاه هجری شمسی، چه بازه زمانی برای ایران بوده است؟

الف) اوج دوران خفقان ستم شاهی

ب) شکوفایی صنعت در ایران

ج) رواج تجارت آزاد و سیل تاجران و بازرگانان به ایران

د) مورد بوج

۶۶-

رخداد زیر مربوط به کدام دوران در ایران

است؟ «همیشه به علت نبودن بندر، حدود
۱۵۰۰ میلیون دلار کالا در وسط دریا مدت سه
تا چهار ماه معطل است»

الف) دولت یازدهم ب) رضا شاه

ج) دولت دوازدهم د) محمدرضا شاه

۶۷-

این جمله از کیست؟ «مملکت تا کی می‌تواند
دائماً سرویس مُفت و مجانی به مردم بدهد؟»

الف) رضاشاه ب) امیرعباس هویدا

ج) محمدرضا شاه د) امام خمینی (ره)

۶۸-

در دوران پهلوی چند درصد از روستاهای ایران
برق و آب آشامیدنی مطمئن دسترسی داشتند؟

الف) چهار درصد - یک درصد ب) چهار درصد

- ۲۰ درصد ج) ۵۰ درصد - ۳۰ درصد د) ۳۰

درصد - ۵۰ درصد

۶۹-

کدام کشور در دهه ۱۹۷۰ - ۱۹۸۰ میلادی، به
بهشت بازرگانان و شرکت‌های گوناگون و متنوع

آمریکایی، انگلیسی و دیگر کشورهای غربی تلقی گردید؟

الف) کشورهای آفریقایی ب) هند

ج) آلمان د) ایران

۷۰-

محمدرضا پهلوی برای انجام چه اموری اقدامات فوری و تصمیمات سریع می‌گرفت؟

الف) پرداخت هزینه جهت توسعه و آبادانی کشور ب) درخواست‌های مسائل مالی از طرف خانواده

ج) بودجه‌های هنگفت جهت تأمین امنیت کشور د) طرح‌های ریشه‌کن کردن بی‌سوادی

۷۱-

این توصیف مربوط به کدام دولت و یا حکومت حاکم بر ایران بوده است؟

« دولت، طرز رفتاری که با مردم دارد، مثل دولت غالب به مردم کشور مغلوب است؛ بی اعتنا و گاهی [خشونت آمیز]. انتخابات را که مداخله می‌کند و انگشت می‌برد. انگشت که چه عرض کنم؟! به مردم حقنه می‌کند..... برای مردم و برای علاقه مردم چیزی باقی نمی‌ماند.»

ماند. همه بی تفاوت می‌شوند.»

الف) دولت دهم

ب) دولت دوازدهم

ج) حکومت محمدرضا پهلوی

د) حکومت رضاشاه پهلوی

۷۲-

جمله‌ی زیر از کیست؟

«من امروز مرگ را بر این زندگی ترجیح می‌دادم که زخم را سربرهنه پیش اغیار ببرم؛ ولی چه کنم؟ کاری است که برای کشور لازم است؛ وگرنه ما را وحشی و عقب افتاده می‌دانند.»

الف) محمدرضا شاه

ب) ناصرالدین شاه

ج) رضاشاه

د) فتحعلی شاه

۷۳-

کاهش چشمگیر تعداد نشریه در ایران (کاهش از ۵۴۰ نشریه به ۸۶ نشریه) و عدم آزادی بیان چه زمانی رخ داد؟

الف) در دوره ریاست جمهوری آقای احمدی نژاد

ب) زمان فتح ایران توسط مسلمانان

ج) دوران پهلوی ها

د) دوران قاجار ها

۷۴-

این توصیف در رابطه با چه کسی است؟

«هرچه..... در زمینه حل مشکلات کشور بی تفاوت بود، در انجام شدن دقیق تفریحات و خوش گذرانی خود، حساس بود و هیچ گونه کوتاهی را از دیگران [در زمینه فراهم کردن شرایط تفریح خود] نمی پذیرفت.»

الف) آیت الله هاشمی رفسنجانی

ب) محمدرضا پهلوی

ج) دکتر زیباکلام

د) حسین فردوست

۷۵-

کدام شخصیت و مسئول سیاسی ایران، خاطرات روزانه خود را در بانک یونیون سوئیس به امانت می گذاشته است؟

الف) امیر اسدالله علم

ب) آیت الله هاشمی رفسنجانی

(ج) حسین فردوست

(د) ارتشبد زاهدی

-۷۶

پرهزینه ترین و پیچیده ترین رزمایش تاریخ،
علیه کدام کشور اعمال شد؟

(ب) ایران

(الف) آلمان

(د) میانمار

(ج) ژاپن

-۷۷

بودجه نظامی کدام یک از کشورهای زیر پایین تر
از سایرین می باشد؟

(ب) ژاپن

(الف) عربستان

(د) ایران

(ج) امریکا

-۷۸

در سال ۱۹۸۲ میلادی (سال ۱۳۶۰) ناامن ترین
کشور دنیا که در آن عالی ترین مقامات رسمی
ترور شدند، کدام بود؟

(ب) شیلی

(الف) اتیوپی

(د) ایران

(ج) شوروی

-۷۹

در انقلاب صنعتی اروپا کدام کشور پیش‌گام بود و توانست با حمایت از تولید داخل به توسعه پایدار دست یابد؟

الف) آلمان

ب) بریتانیا

ج) فرانسه

د) سوئیس

-۸۰

انقلاب علمی بریتانیا چه دستاوردهایی را برای این کشور به ارمغان آورد؟

الف) امپراتوری بر بیست و دو درصد از جهان

ب) تسلط بر بیست درصد از مردم جهان

ج) کنترل تقریباً تمامی مسیرهای بازرگانی جهان

د) همه‌ی موارد

-۸۱

به گزارش پایگاه علمی معتبر بین‌المللی، در سال ۲۰۱۰ کدام کشور دارای بیشترین رشد علمی در میان تمام کشور های جهان شد؟

الف) آلمان

ب) بلژیک

ج) کانادا

د) ایران

۸۲-

به گزارش پایگاه علمی «نیوساینتیست» سرعت رشد علمی ایران در سال ۲۰۱۰ چند برابر متوسط جهانی بود؟

- الف) سه برابر
ب) پنج برابر
ج) هفت برابر
د) یازده برابر

۸۳-

اولین کشوری که بعد از حدود ۸۰ سال از جنگ جهانی دوم توانست در پاسخ به جنایت و عملیات تروریستی آمریکا، پایگاه نظامی آن را مورد اصابت موشک قرار داد، چه کشوری بود؟

- الف) ژاپن
ب) روسیه
ج) کره شمالی
د) ایران

۸۴-

پس از آمریکا، کدام کشور در دنیا رتبه دوم پژوهش در زمینه‌ی سلول‌های بنیادی را کسب کرده است؟

- الف) انگلستان
ب) ایسلند
ج) ایران
د) سوئد

-۸۵

بنابر گزارش ISI سهم ایران در تعداد مقالات باکیفیت و پر استناد دنیا، از سال ۲۰۰۷ تا ۲۰۱۹ چند برابر شده است؟

- الف) سه برابر
ب) دو برابر
ج) هشت برابر
د) هجده برابر

-۸۶

کدام مورد به موانع موجود بر سر راه پیشرفت علمی در ایران اشاره میکند؟

- الف) تحریم دانشگاه‌ها و دانشمندان ایرانی
ب) جلوگیری از انتقال فناوری و تجهیزات به ایران
ج) ممانعت از دریافت خدمات رایانه‌ای و اینترنتی
د) همه موارد

-۸۷

در جهت آسیب به عفاف و حجاب زنان و عدم تامین امنیت آنان در فضای عمومی، جمله زیر از کیست؟

(کاری خواهیم کرد که تا چند سال آینده در کتابخانه‌های ایران وقتی کتاب لغتی برداشته

شد در بخش چ و ح دو واژه چادر و حجاب حذف شده باشد)

الف) هیلاری کلینتون ب) ملکه انگلیس

ج) اشرف پهلوی د) هیچ‌کدام

-۸۸

اصلی ترین نقش در تولید قدرت ملی، مربوط به کدام گزینه می‌باشد؟

الف) قدرت نظامی

ب) منابع زیر زمینی و روزمینی

ج) نیروی انسانی

د) تکنولوژی

-۸۹

از نظر مقام معظم رهبری (مدظله) کدام مورد یک مجاهدت بزرگ است؟

الف) فرزندآوری

ب) کسب مراتب علمی

ج) خرید کالای ایرانی و حمایت از تولید ملی

د) مبارزه با فساد و رواج بانکداری اسلامی

-۹۰

عامل پیروزی و پایان یافتن محاصره ۸۱ روزه
شهر آمرلی عراق چه بود؟

الف) کمک آمریکا به عراق

ب) حکم جهاد آیت الله سیستانی

ج) ورود حاج قاسم و سازماندهی نیروها

د) گزینه ب و ج

-۹۱

با توجه به اینکه محمد رضا پهلوی تمام امکاناتی
که متضمن حکومت نامحبوبترین فرمانروایان
است، را در اختیار داشت (مانند قدرت، پول،
حمایت خارجی) پس چرا در اوج قدرت پس
از ۳۸ سال سلطنت، شاه تاج و تخت خود را از
دست داد؟

الف) شخصیت شاه و شیوه حکومت او که از
شخصیتش نشات می گرفت، علت اصلی آغاز
مخالفت با او بود.

ب) قدرشناسی مردم ایران

ج) ورشکستگی و رکود اقتصادی آخر دوره
پادشاهی او

د) توطئه غربی ها بر عدم حمایت از او

-۹۲

خانم اورینا فالچی در مصاحبه ای با یکی از چهره های قدرت مند دنیا، نظرش را در مورد زنان میپرسد و پاسخی که دریافت میکند:

«در زندگی یک مرد، زنان فقط وقتی به حساب می آیند که زیبا و باوقار باشند و بدانند که چگونه زنانه باقی بمانند و... به عنوان مثال، این مسئله آزادی زنان. این طرفداران اصالت زن چه می خواهند؟ شما چه می خواهید؟ می گویند، برابر؟ واقعا! من نمی خواهم خشن جلوه کنم، اما.. شما می توانید در مقابل قانون برابر باشید، اما، پوزش مرا بپذیرید، در توانایی نه.

به نظر شما این فرد چه کسی بوده است؟

الف) نیکسون رئیس جمهور ایالات متحده

ب) محمد رضا پهلوی شاه ایران

ج) چرچیل

د) استالین

-۹۳

استدلال زیر که این پیامی بود که دقیقا شاه را هدف گرفته بود، و تباهی اخلاقی نظام پهلوی را آماج حمله قرار می داد، از کدام یک از متفکران اسلامی در سال های ۱۳۴۰ - ۱۳۵۰ است؟

«جامعه بدون یک بعد اخلاقی که جدا از ساختار مادی و فراتر از آن باشد، بناگزیر در ورطه دیکتاتوری و تزویر فرو می غلظد».

الف) آیت الله طالقانی (ب) شهید مطهری

ج) شهید بهشتی (د) دکتر شریعتی

۹۴-

در دهه ۱۳۵۰ جشنی برگزار شد با هزینه ای به ارزش ۱۰۰ میلیون دلار! و خانم هلمز، همسر سفیر آمریکا، آن را چنین توصیف کرده است:

"... حدود هفتاد چادر برپا شده بود که توسط ژانسن پاریس به گونه ای مجلل با کریستال، چینی، و پارچه های کتان فرانسوی تزئین شده بود، و در آن چلچراغ های پرتالو با ابریشم و مخمل قرمز آویزان شده بود. پانصد نفر میهمان از ۶۹ کشور،... در جشن های سه روز آنجا حضور داشتند.. لانون برای خانواده ی سلطنتی یونیفورم جدیدی طراحی کرده بود که با نخی از طلا به طول تقریبی یک مایل دوخته شده بود. آشپزهای ماکسیم شام باشکوهی تهیه کرده بودند که شامل پاته دم خرچنگ، طاووس بریان شده و شکم پر، شامپاین و شراب کهنه و گرانقیمت فرانسوی بود. خاویار ایرانی برای پرکردن تخم بلدرچین مورد استفاده قرار

گرفته بود."

به نظر شما این جشن مربوط به کدام کشور و مناسبتی است؟

الف) جشن پیروزی انقلاب کبیر فرانسه

ب) جشن‌های سلطنتی بریتانیا

ج) دو هزار و پانصدمین سالگرد بنیانگذاری نخستین سلسله شاهنشاهی ایران در تخت جمشید

د) جشن روز استقلال امریکا

۹۵-

کدام یک از گزینه‌های زیر صحیح نمی‌باشد؟

الف) رهبران سه کشور متفق در نوامبر سال ۱۹۴۳ (۱۳۲۲) به منظور تشکیل کنفرانسی درباره جنگ وارد تهران شدند. جالب توجه است که پیش از ورود آنها به تهران، هیچ ایرانی حتی شاه نمی‌دانست که آنها در تهران با یکدیگر ملاقات خواهند کرد.

ب) در اوئل دهه ۱۹۷۰، به دنبال تحریم فروش نفت به کشورهای حامی اسرائیل توسط اعراب، شاه به این تحریم نپیوست و در عین حال رهبری تقاضا برای افزایش قیمت را نیز

به دست گرفت.

ج) مارتین انالز، دبیر کل سازمان عفو بین المللی اعلام کرد که گزارش حقوق بشر در هیچ یک از کشورهای جهان بدتر از ایران نیست. (د) هیچ کدام، همه موارد بالا صحیح است.

۹۶-

ملی شدن صنعت نفت ایران پس از کودتا و عزل مصدق و به دنبال وابستگی شدید ایران [به غرب] در نتیجه توافق با کنسرسیوم نفت در سال ۱۹۵۴ به افسانه ای مبدل شد و حکومت ایران حاکمیتی بر صنعت نفت خود نداشت. کدام یک از شرکت های غربی اختیار نفت ایران را در دست داشتند؟

الف) در این ماجرا شرکت های نفتی آمریکایی ۴۰ درصد از سهام نفت ایران را بدست آوردند، در حالی که قبلا به دلیل انحصار بریتانیا هیچ سهمی نداشتند. سهم بریتانیایی ها که قبلا از طریق شرکت نفت انگلستان [ایران] ۱۰۰ درصد بود به ۴۰ درصد کاهش یافت، و ۲۰ درصد باقیمانده نیز میان فرانسه و هلند تقسیم شد.

ب) در این ماجرا شرکت های نفتی فرانسوی ۴۰ درصد از سهام نفت ایران را بدست آوردند،

در حالی که قبلاً به دلیل انحصار بریتانیا هیچ سهمی نداشتند. سهم بریتانیایی‌ها که قبلاً از طریق شرکت نفت انگلستان - ایران ۱۰۰ درصد بود به ۴۰ درصد کاهش یافت، و ۲۰ درصد باقیمانده نیز میان فرانسه و هلند تقسیم شد.

ج) در این ماجرا شرکت‌های نفتی آلمانی ۴۰ درصد از سهام نفت ایران را بدست آوردند، در حالی که قبلاً به دلیل انحصار بریتانیا هیچ سهمی نداشتند. سهم بریتانیایی‌ها که قبلاً از طریق شرکت نفت انگلستان - ایران ۱۰۰ درصد بود به ۴۰ درصد کاهش یافت، و ۲۰ درصد باقیمانده نیز میان فرانسه و هلند تقسیم شد.

د) در این ماجرا شرکت‌های نفتی شوروی ۴۰ درصد از سهام نفت ایران را بدست آوردند، در حالی که قبلاً به دلیل انحصار بریتانیا هیچ سهمی نداشتند. سهم بریتانیایی‌ها که قبلاً از طریق شرکت نفت انگلستان - ایران ۱۰۰ درصد بود به ۴۰ درصد کاهش یافت، و ۲۰ درصد باقیمانده نیز میان فرانسه و هلند تقسیم شد.

در جنگ جهانی دوم نیروهای بریتانیایی از عراق و از طریق دریا از خلیج فارس وارد جنوب غربی ایران شدند و نیروهای اتحاد شوروی نیز از سمت شمال به داخل کشور پیشروی کردند. رویای بیست و یکساله رضاشاه برای سازماندهی ارتشی که ضامن استقلال ایران باشد بر باد رفت، و همراه با آن حکومت او نیز فرو پاشید. فاتحان خواستار کناره گیری او از حکومت شدند. وی اعضای خانواده خود را به استثنای ولیعهد و خواهر دوقلویش اشرف، جمع کرد و از طریق خلیج فارس رهسپار تبعید در آفریقای جنوبی شد.

به نظر شما علت اشغال ایران و کودتا علیه رضا خان چه بود؟

الف) ارسال نیرو از ارتش ایران به آلمان

ب) جلوگیری از تصرف ایران به دست آلمان ها و نیز در اختیار گرفتن بزرگترین دستاورد مادی رضاشاه - راه آهن سراسری ایران - جهت ارسال تجهیزات جنگی به اتحاد شوروی

ج) مداخلات امریکایی ها

د) هیچ کدام

کدام یک از جملات زیر در مورد شیفتگی شاه نسبت به پرواز صحیح نمی‌باشد؟

الف) پرواز های شخصی اش پس از گرفتن گواهینامه پرواز در سن ۲۷ سالگی و حضور با یونیفرم مارشالی نیروی هوایی ایران در نخستین سفر خارجی دوران سلطنت اش و مهمانی های مهم شخصی اش

ب) توسعه نیروی هوایی شاهنشاهی پس از خروج نیروهای اشغال‌گر بریتانیا و آمریکا در سال ۱۹۴۵ (۱۳۲۴)، اعزام پرسنل نیروی هوایی برای آموزش به ایالات متحده

ج) نخستین شرکت خارجی که شاه آن را خرید «پان امریکن ایروویز» بود.

د) مجهز نمودن نیروی هوایی به پیشرفته‌ترین تجهیزات و مدرن‌ترین موشک‌ها، بمب افکن‌ها و هواپیماهای باربری موجود در جهان به دنبال افزایش قیمت نفت در سالهای ۱۹۷۲ - ۱۹۷۶ (۱۳۵۱ - ۱۳۵۵)، امکاناتی که حتی به نزدیک‌ترین متحدان امریکا یعنی اسرائیل نیز فروخته نمیشد.

۹۹-

سولیوان آخرین سفیر ایالات متحده در ایران، برای یک ماموریت به ایران فرستاده شده بود.

هنگامی که سولیوان به محوطه مورد نظر رسید، شاه از او دعوت کرد که تا آغاز نمایش هوایی در یک تریلر دارای سیستم تهویه هوا منتظر بمانند. هنگامی که این دو مرد وارد تریلر شدند، شاه دکمه بلوز خود را باز و خود را راحت کرد، و مثل همیشه آسان و مطبوع شروع به صحبت کردن درباره چیزهای مختلف کرد. سرانجام ضربه ای به در زده شد، و یک آجودان اشاره کرد که هواپیماها دارند می رسند و نمایش هوایی آغاز می شوند. با این علامت، شاه دکمه های بلوز خود را بست، و برپا خاست و اعمال کوچکی انجام داد که در خاطر من نقش بسته است. وی ناگهان خود را از میزبان راحت، مهربان و خندانی که با او صحبت می کردم، به یک خودکامه آهنین، سخت و استوار تبدیل کرد. او این کار را نه فقط با مرتب کردن یونیفورم خود و زدن عینکی تیره به چشم، بلکه با جلو دادن سینه، بالا گرفتن چانه، و دادن حالتی عبوس به لب انجام داد. و چند قدم فاصله تا جایگاه بازدید را با تکبر و خرامان طی کرد.

شاه مردی فاقد اعتماد به نفس بود که فقدان اعتماد به نفس، انفعال، وابستگی، و خجالتی بودن خود را زیر نقابی از لاف مردانگی، تحرک، و نخوت پوشانده بود. او می توانست این یا آن

جنبه از شخصیت خود را آشکار سازد. بنابراین ، می توانست در دو ماجرای مختلف ، و یا برای یک شخص واحد در طول زمان ، دو شخصیت کاملاً « متفاوت » داشته باشد. وی مهربان و ظالم ، گوشه گیر و فعال ، وابسته و مستقل ، ضعیف و نیرومند بود .

این وجه از شخصیت شاه طبق تعاریف روان شناسان چه نام دارد؟

الف) اقتدار و توان مدیریت

ب) عدم تعادل شدید خود شیفتگی

ج) عظمت طلبی

د) گزینه ب و ج

۱۰۰-

هر چه که دوران سلطنت شاه طولانی تر می شد ، در محافل خصوصی ، (شاه) از رضا شاه بیشتر انتقاد می کرد.

او در سال های آخر حکومت خود حتی مایل نبود بزرگداشت رضاشاه را تشویق کند ، این امر به چه دلیلی اتفاق افتاد؟

الف) آگاهی شاه از اینه رضا خان دست نشاندهی انگلیسی ها بوده است.

ب) جهت همراهی با کودتای ۱۳۲۰ که به خلع رضا خان از قدرت انجامید.

ج) برای همراهی با مردمی که مشروعیت لازم را برای حکومت رضاخان قائل نبودند.

د) بزرگ شدن عظمت طلبی شاه

۱۰۱-

در سال های میانی دهه ۱۹۷۰ [۱۳۵۰]، احساس خواری و تحقیر به وسیله حکومت شاه، تقریباً عمومیت داشت، این احساس ناشی از چه چیزی بوده است؟

الف) این احساس و در وهله اول حاصل سیاست‌هایی بود که در راستای عظمت طلبی خود پسندانه اتخاذ می شد.

ب) سیلابی از دلارهای نفتی وارد کشور شده بود، و چشم انداز تقاضای سیری ناپذیر دنیای صنعتی برای ارزشمندترین منبع خاورمیانه، تمام نشدنی به نظر می رسید.

ج) هریک از صاحب منصبان، در قلمرو بوروکراتیک خود خواهان همان حقوق ویژه ای بودند که شاه در کل نظام داشت. هریک از آنان در سیلاب ثروت و قدرت، برای گسترش قلمرو خود و بالا بردن اهمیت آن کوشش می کرد.

(د) همه موارد

۱۰۲-

.....بارها ضمن مصاحبه‌های متعدد با روزنامه نگاران خارجی و در سخنرانی‌های خود برای مخاطبان ایرانی از آینده با شکوهی که قصد داشت برای ایران تدارک ببیند صحبت می‌کرد. وی در سال ۱۹۷۴ (۱۳۵۳) ایران را در ده سال بعد دارای شهرهایی با ماشین‌های الکتریکی بجای اتومبیل‌های بنزینی و حداقل دو یا سه روز تعطیلی در هفته و... توصیف کرد.

الف) کارتر رئیس‌جمهور آمریکا

ب) اسد الله علم

ج) آیت الله خمینی

د) محمد رضا پهلوی

۱۰۳-

« من تاریکترین روزهایی را به یاد دارم که کشور ما مجبور بود قیومت قدرت‌های خارجی و از جمله انگلستان را بپذیرد. اکنون می بینم که انگلستان نه تنها دوست ما و با ما برابر شده است، بلکه کشوری است که ما اگر بتوانیم با خرسندی به او کمک خواهیم کرد.»

وی در دهه ۱۹۷۰ سرانجام اعتباری بالغ بر یک میلیارد دلار به هر دو کشور فرانسه و انگلستان واگذار کرد.

وی کیست؟

(الف) پرزیدنت نیکسون

(ب) اسحاق رابین، نخست وزیر اسرائیل

(ج) محمدرضا شاه

(د) ملک فیصل پادشاه عراق

۱۰۴-

کدام یک از جملات زیر منسوب به محمدرضا شاه پهلوی نیست؟

(الف) در سال ۱۹۷۵ بعد از فرمان تاسیس نظام تک حزبی: کسی که وارد این حزب سیاسی جدید نشود... یا فردی است که به یک سازمان غیر قانونی تعلق دارد، یا به حزب غیر قانونی توده وابسته است، و یا به عبارت دیگر یک خائن است.

(ب) در کتاب ماموریت برای وطنم: «اگر من نه یک پادشاه مشروطه، بلکه یک دیکتاتور بودم، سعی می کردم مانند هیتلر یا آنچه که امروزه در کشورهای کمونیستی می بینید، رهبری یک

حزب واحد و مسلط را بدست بگیرم.»

ج) در سال ۱۹۷۸ شاه در مصاحبه ای گفته بود: «هنگامی که ما دو سال قبل طرح فضای باز سیاسی را آغاز کردیم، با درک و معرفت کامل نسبت به این موضوع بود که راه ما در آینده، راه دمکراتیک خواهد بود. هرکاری که صورت گرفت، به منظور تامین آینده دمکراتیک ما بود. این حرکت از دو سال قبل آغاز شده است»

د) تمامی گزینه ها مربوط به محمد رضا شاه است.

۱۰۵-

در شماره ۳۱ ژانویه سال ۱۹۷۶ (۱۱ بهمن ماه ۱۳۵۴) کیهان بین المللی هفتگی، تمام صفحه اول این شماره از سه مقاله و یک عکس تشکیل شده بود. این عکس، شاه را در حالتی نشان می داد که سهام یک کارخانه صنعتی را به نماینده کارگران آن کارخانه اعطا می کرد. این اقدام، بخشی از کوشش شاه به منظور گسترش شالوده های مالکیت صنعتی بود. تیترا این صفحه که کل عرض آن را پوشانده بود این جمله بود: «استثمار انسان از انسان لغو شد». عناوین سه مقاله جداگانه عبارت بود از: «شاهنشاه دوران صنعتی جدیدی را بنیاد می گزارد»، «سپاس بیکران

کارگران از اقدام اصلاحی بزرگ شاهنشاه»، و «نخست وزیر، مبارزه با فساد را وعده می‌دهد» اما چرا پس از دو سال کارگران با "انقلاب" کردن در عمل "سپاس بیکران" خود را نسبت به شاه عرضه داشتند؟

الف) صاحبان شرکت‌ها عقیده داشتند که با این قانون، دارایی‌های آنها به زور توزیع می‌شود.

ب) بزرگانان دریافتند که دولت، ساخت و کار دیگری برای مداخله در فعالیت‌های آنها پدید آورده است

ج) کارگران احساس می‌کردند که مجبور می‌شوند برای خرید دارایی‌های کاغذی، زیر بار قرض‌های سنگین بروند، عموماً نظر بر این بود که شرکت‌های دولتی فروخته شده غیر سود آورند.

د) آنچه که مطبوعات ایران در دهه ۱۹۷۰ (۱۳۵۰) منعکس می‌کردند واقعیات جامعه ایران نبود، بلکه عظمت طلبی شخصی شاه و نظام شاهنشاهی ایجاد شده توسط او بود

د) همه موارد

در زمان محمدرضا شاه ، علت افزایش مهاجران
آمریکایی به ایران چه بود؟

الف) منازل بزرگ با خدمتکار

ب) راننده و بسیاری امکانات مادی

ج) سکونت در محله تخت جمشید تهران

د) همه موارد

۱۰۷-

نیکی کدی در کتاب «ریشه های انقلاب ایران»
آورده است که در سال ۱۹۲۶ ، ایران در چه
زمینه ای نه تنها از بسیاری از کشورهای جهان
بلکه از کشورهای اسلامی فاصله زیادی داشت
و پایین تر بود؟

الف) نظامی

ب) موقعیت زنان

ج) کشاورزی

د) تحصیلی

۱۰۸-

به دستور محمدرضا شاه عواقب عدم حضور
ایرانیان در حزب رستاخیز چه بود؟

- الف) اتهام خیانت و حبس در زندانب
- ب) لغو ملیت ایرانی و خروج از کشور
- ج) غیر قانونی بودن تمام کارها و فعالیت ها
- د) همه موارد

۱۰۹-

به گفته پروفیسور جیمز بیل در کتاب «عقاب و شیر» عموم مهاجران آمریکایی از چه طیفی بودند؟

- الف) بهترین و بدترین آمریکاییها
- ب) حضور روز افزون از فرستطلبان و لاشخورهای مالی
- ج) افراد بیکار سرخورده
- د) همه موارد

۱۱۰-

کدام مورد اساس و پایه سرمایه گذاری اقتصادی در حوزه صنعت در دوره پهلوی دوم می باشد ؟

- الف) توسعه زیر ساختها
- ب) رشد علم و دانش فنی

ج) صنایع مصرفی وارداتی

د) خودکفایی در تولید

-۱۱۱

مهمترین عامل موفقیت شرکتهای موفق نظیر
سامسونگ، نوکیا، اپل و تویوتا چیست؟

الف) حمایت از جانب دولت

ب) رقابت با دیگر کشورها

ج) پیشرفت فناوری

د) تربیت افراد متخصص

-۱۱۲

مهمترین عامل پیشرفت کشورهای ثروتمند
دنیا کدام مورد است؟

الف) حمایت از تولید ملی

ب) وابستگی به قدرت های اقتصادی

ج) کاهش واردات کالای خارجی

د) افزایش صادرات غیر نفتی

-۱۱۳

ریشه ی کاهش مستمر ارزش پول ملی در

ایران کدام مورد است؟

الف) ضعف تولیدات داخلی

ب) کاهش قدرت خرید مردم

ج) افزایش تورم

د) تسلط کشورهای خارجی بر بازار داخلی

۱۱۴-

کدام مورد از اقدامات رژیم پهلوی در صنعتی

کردن ایران می باشد؟

الف) ایجاد صنایع مادر

ب) توسعه زیر ساخت ها

ج) صنایع واردات محور

د) عدم وابستگی صنعتی به کشورهای خارجی

۱۱۵-

تضعیف تولیدات داخلی و وابستگی اقتصاد

ایران به قدرت های خارجی در دوران پهلوی چه

تبعاتی برای کشور به دنبال داشت؟

الف) افزایش قیمت نفت خام

ب) افزایش ۴۰ درصدی تورم

ج) ورشکستگی سرمایه‌گذاران خارجی

د) کاهش واردات کالاهای کشور

-۱۱۶-

کدام سیاست اقتصادی در دوران پهلوی باعث مصرف‌گرایی جامعه و وابسته‌سازی ثبات اقتصادی کشور به ذخایر ارزی شد؟

الف) وضع تعرفه‌های سنگین بر واردات

ب) دریافت وام‌های کلان خارجی

ج) تزریق درآمدهای نفتی به اقتصاد کشور

د) کاهش صادرات مواد خام اولیه

-۱۱۷-

مهم‌ترین عامل ضعف صنعت و رکود اقتصادی ایران در دوران پهلوی چه بود؟

الف) وابستگی به درآمد نفتی

ب) کاهش یارانه‌های صادراتی به کالاها

ج) افزایش تعرفه بر واردات کالای خارجی

د) وارداتی بودن فناوری

-۱۱۸-

کدام یک از ملزومات صنعتی در دوران پهلوی وابسته به واردات نبود؟

الف) فناوری

ب) مواد اولیه

ج) نیروی انسانی

د) هیچکدام

۱۱۹-

کدام مورد از نتایج حمایت رژیم پهلوی از صنایع وابسته نمی باشد؟

الف) زوال صنایع داخلی

ب) وابستگی اقتصادی

ج) عدم کفایت کشور

د) کاهش واردات کالای خارجی

۱۲۰-

نفوذ استعمارگران در دوران پهلوی بر اقتصاد ایران چه نتایجی به دنبال داشت؟

الف) کاهش سرمایه گذاری خارجی

ب) کاهش یارانه های صادراتی به کالاها

ج) وابستگی صنایع و اقتصاد به خارجی‌ها

د) کاهش تقاضای داخلی

۱۲۱-

مدل مدرن سازی صنایع در دوران پهلوی چگونه بود؟

الف) خلق یک اقتصاد مدرن

ب) خودکفایی در تولید

ج) مونتاژ کاری محصولات غربی

د) ارتقای دانش و فناوری

۱۲۲-

عهدنامه‌های گلستان و ترکمانچای با روسیه و عهدنامه تجاری با انگلیس در دوران قاجار چه تبعاتی برای ایران داشت؟

الف) تسلط خارجی‌ها بر بازار ایران

ب) تعطیلی کارخانه‌های نساجی کاشان و یزد

ج) کاهش پنجاه برابری ارزش پول ایران

د) همه موارد

۱۲۳-

واردات بی رویه و مداوم کالاهای خارجی چه نتایجی به دنبال دارد؟

الف) کاهش تقاضای کالا نسبت به عرضه

ب) افزایش ارزش پول و تولید داخلی

ج) کاهش ارزش پول و تولید داخلی

د) ایجاد امکان رقابت صنایع داخلی با خارجی

۱۲۴-

در انقلاب صنعتی دوم چه عاملی به پیشرفت تکنولوژیک در صنایع اروپا انجامید؟

الف) افزایش تولیدات صنعتی

ب) دریافت وام های کلان خارجی

ج) وارد کردن فناوری

د) افزایش صادرات مواد خام اولیه

۱۲۵-

چه عاملی باعث افت شدید ارزش پول کشور ایران و قرار گرفتن در آستانه ورشکستگی در دوران قاجار شد؟

الف) تسلط بیگانگان بر بازار داخلی

- (ب) نابودی صنایع داخلی
- (ج) عدم حمایت از کارخانه‌های داخلی
- (د) همه موارد

۱۲۶-

- کدام مورد باعث افزایش ارزش پول یک کشور می‌شود؟
- (الف) افزایش تقاضا نسبت به تولید
 - (ب) افزایش واردات کالای خارجی
 - (ج) افزایش حجم تولید داخلی
 - (د) کاهش تحریم‌ها

۱۲۷-

- تاثیر گذارترین و مهم‌ترین عامل در ارزش پول هر کشور کدام مورد است؟
- (الف) منابع طبیعی
 - (ب) معادن
 - (ج) تولید
 - (د) صادرات

۱۲۸-

کدام مورد عامل اصلی رونق اقتصادی در کشور های ثروتمند دنیا می باشد؟

الف) ایجاد فضای رقابت با دیگر کشورها

ب) کاهش تعرفه واردات

ج) تقویت توان تولید داخلی

د) افزایش صادرات کالای داخلی

۱۲۹-

رتبه کشور ایران در پژوهش در زمینه سلول های بنیادی در جهان کدام است؟

الف) دهم

ب) بیست و یکم

ج) دوم

د) هجدهم

۱۳۰-

ارتقای رتبه علمی ایران در کدام رشته ها پس از انقلاب اسلامی ، پیشرفتی خیره کننده داشته است؟

الف) علوم نانو و ریاضی

ب) علوم داروسازی و هسته ای

ج) علوم هوا فضا و فیزیک

د) همه موارد

۱۳۱-

افزایش و پیشرفت شرکت های دانش بنیان پس از انقلاب اسلامی در زمینه های مختلفی نظیر تولید دارو، زیست فناوری، تولیدات نانو و ... چه تاثیری در اقتصاد کشور گذاشته است؟

الف) صادرات محصولات با تکنولوژی بالا

ب) افزایش تولید و ارز آوری

ج) مانع خروج ارز از کشور

د) همه موارد

۱۳۲-

کدام عامل در اثر گذاری تحریم ها اثر کمتری دارد؟

الف) واردات بی رویه کالا

ب) وابستگی بودجه کشور به فروش نفت

ج) تولیدات صنعتی واردات محور

د) توزیع نامناسب درآمد

۱۳۳-

کدام یک از چالش های بیرونی پیش روی تولید ملی موجب وابستگی همیشگی کشورهای توسعه نیافته و عقب ماندگی آنها از تولید صنایع با ارزش افزوده بالا می شود؟

- الف) تحریم ها ب) تجارت آزاد
ج) قاچاق کالا د) بودجه بندی معیوب

۱۳۴-

کدام مورد از تاثیرات افزایش قاچاق کالا بر تولید کشور می باشد؟

- الف) کاهش قدرت خرید مردم
ب) کاهش تقاضای داخلی
ج) از بین رفتن فرصت های شغلی
د) ایجاد رقابت در صنایع داخلی

۱۳۵-

طبق گزارش امریکن اینترست در سال ۲۰۱۷ میلادی، کشور ایران چندمین قدرت در دنیا است؟

الف) سی و هشتم
ب) هجدهم
ج) هفتم
د) چهل و سوم

۱۳۶-

۹۳ درصد از صادرات ایران در حکومت پهلوی در سال ۱۳۵۵ مربوط به کدام کالای صادراتی بوده است؟

الف) مرکبات
ب) نفت
ج) منسوجات
د) سنگ آهن

۱۳۷-

دلیل رد ادعای مالکیت ۵۰ درصدی ایران بر دریای خزر چیست؟

الف) کمترین میزان ساحل متعلق به ایران است

ب) واگذاری ۳۲ درصد از دریای خزر توسط ایران به روسیه

ج) عقب نشینی ایران از مالکیت ۵۰ درصدی بر دریای خزر

د) همه موارد

-۱۳۸

از دیدگاه برخی از نویسندگان و اندیشمندان غربی وضعیت اقتصادی مردم در دوران پهلوی چگونه بود؟

الف) اختصاص ثروت نفتی به نخبگان وابسته به دربار

ب) بدترین کشور جهان به لحاظ توزیع نابرابر درآمدها

ج) ۲۳ درصد از خانواده‌های شهرنشین در یک اتاق زندگی میکردند

د) همه موارد

-۱۳۹

در کدام کشور نابرابری ثروت در جامعه (ضریب جینی ثروت) نسبت به بقیه کشورها پایین است؟

الف) کانادا

ب) انگلیس

ج) آمریکا

د) ایران

-۱۴۰

به گفته یرواند آبراهامیان، تاریخ‌شناس مشهور مقیم آمریکا، اصطلاح فرار مغزها نخستین بار

برای ایران چه زمانی به کار گرفته شد؟

الف) دوران قاجار

ب) دوران ناصرالدین شاه

ج) بعد از انقلاب اسلامی

د) دوران پهلوی

۱۴۱-

طبق گزارش موسسه جهانی آمار و ارزیابی سلامت (IHME) پایین ترین نرخ خودکشی بین کشورهای زیر در سالهای ۱۹۹۰ تا ۲۰۱۷ میلادی مربوط به کدام کشور است؟

الف) کره جنوبی

ب) فرانسه

ج) آمریکا

د) ایران

۱۴۲-

این جمله از کیست و مربوط به کدام دوره از تاریخ ایران می باشد؟ ((وقتی جویا شدم دردهات چقدر برق و آب آشامیدنی داریم، معلوم شد یک درصد دهات ایران آب آشامیدنی تمیز دارند و چهار درصد دهات ایران برق دارند.))

الف) بنی صدر - بعد از انقلاب اسلامی

ب) آیت الله طالقانی - دوره پهلوی

ج) اسدالله علم - دوره پهلوی

د) حسین فردوست - بعد از انقلاب اسلامی

۱۴۳-

کدام گزینه درباره وضعیت آموزشی ایران در دوره پهلوی درست نمی باشد؟

الف) ۶۸ درصد از جمعیت بزرگسال بی سواد بودند

ب) ۹۰ درصد زنان روستایی بی سواد بودند

ج) ۶۰ درصد از کودکان نمی توانستند دوره دبستان را کامل طی کنند

د) ۵۰ درصد داوطلبان کنکور می توانستند وارد دانشگاه ها شوند

۱۴۴-

طبق گزارش شاخص جهانی گرسنگی در سال ۲۰۲۰ میلادی کدام کشور پایین ترین میزان شاخص جهانی گرسنگی را نسبت به کشورهای منطقه و جهان دارد؟

ب) چین

الف) انگلیس

ج) آمریکا

د) ایران

۱۴۵-

نرخ فارغ التحصیلان دانشگاهی کدام کشور نسبت به بقیه رشد بیشتری طی سال‌های ۱۹۷۰ تا ۲۰۱۰ میلادی داشته است؟

الف) چین

ب) ترکیه

ج) عربستان سعودی

د) ایران

۱۴۶-

با توجه به بررسی روند تغییرات نرخ سرطان در برخی از کشورهای جهان در سال‌های ۱۹۹۰ تا ۲۰۱۷ میلادی توسط موسسه جهانی آمار ارزیابی سلامت (IHME)، در بین کشورهای زیر، بالاترین و پایین‌ترین میزان آن به ترتیب مربوط به کدام کشور میباشد؟

الف) کره جنوبی- دانمارک

ب) آمریکا- ایران

ج) ایران- ژاپن

د) فرانسه- دانمارک

-۱۴۷

بر اساس گزارش دفتر برنامه توسعه سازمان ملل متحد در سال ۲۰۱۸ میلادی، شاخص توسعه انسانی (بهداشت، آموزش و سطح مناسب زندگی) کشور ایران در میان کشورهای با توسعه انسانی بالا رتبه چندم را دارا می‌باشد؟

الف) شانزدهم ب) بیست و سوم

ج) اول د) هشتم

-۱۴۸

در دوره ی پهلوی چه عاملی منجر به وابستگی بیشتر دولت به واردات مواد اولیه و نیروی کار شد؟

الف) عدم ایجاد صنایع زیرساختی

ب) عدم تربیت نیروی انسانی متخصص

ج) عدم رشد دانش فنی بومی

د) همه موارد

-۱۴۹

بنابر گزارش پایگاه علمی نیوسایتیست در سال ۲۰۱۰ میلادی، کدام کشور بیشترین سرعت رشد را در زمینه تولیدات علمی در میان تمامی

کشورهای دنیا از آن خود کرده است؟

- | | |
|------------|-----------|
| الف) آلمان | ب) چین |
| ج) ایران | د) آمریکا |

۱۵۰-

بر اساس اطلاعات پایگاه علمی ISI سرعت رشد علمی ایران چند برابر متوسط جهانی میباشد؟

- | | |
|--------------|------------|
| الف) ۵ برابر | ب) ۲ برابر |
| ج) ۱۱ برابر | د) ۷ برابر |

۱۵۱-

به گزارش پایگاه استنادی اسکوپوس کشور ایران رتبه چندم جایگاه علمی را در منطقه دارد؟

- | | |
|--------------|----------|
| الف) شانزدهم | ب) بیستم |
| ج) دهم | د) اول |

۱۵۲-

به گزارش مرکز آزمایش های بالینی ایالات متحده آمریکا در سال ۲۰۱۶ میلادی، کشور ایران در رشته علوم ژنتیک و سلول های بنیادی، جایگاه چندم دنیا را از آن خود کرده است؟

الف) هشتم

ب) شانزدهم

ج) دوم

د) بیست و دوم

۱۵۳-

بنابر گزارش پایگاه استنادی اسکوپوس در سال ۲۰۲۰ میلادی، کشور ایران در رشته علوم هوا فضا رتبه چندم جهان میباشد؟

الف) بیست و ششم

ب) چهل و پنجم

ج) یازدهم

د) سی ام

۱۵۴-

گسترش سهم اقتصاد دانش بنیان چه تاثیری در اقتصاد کشورها دارد؟

الف) ایجاد اشتغال و تولید محصولات با تکنولوژی بالا

ب) جلوگیری از خروج ارز از کشور

ج) کاهش وابستگی اقتصاد به نفت و گاز

د) همه موارد

۱۵۵-

به گزارش مکنزی، یکی از معتبرترین بنگاه

های مشاوره مدیریت در جهان ، در سال ۲۰۱۶ میلادی، کشور ایران از نظر تعداد دانشجویان و دانش‌آموختگان سالانه در رشته های مهندسی جزو چند کشور برتر دنیا است؟ و هم تراز با کدام کشور می باشد؟

الف) جزو ۱۶ کشور برتر جهان- فرانسه

ب) جزو ۱۰ کشور برتر جهان- انگلیس

ج) جزو ۵ کشور برتر جهان- آمریکا

د) جزو ۸ کشور برتر جهان- آلمان

۱۵۶-

رتبه کشور ایران بنا بر گزارش بانک جهانی در تعداد ثبت اختراع در سال ۲۰۱۹ میلادی چندم دنیا میباشد؟

الف) بیست و چهارم

ب) سی و نهم

ج) دهم

د) شانزدهم

۱۵۷-

طبق گزارش آژانس بین المللی انرژی (IEA) در

سال ۲۰۱۹ میلادی کشور ایران رتبه چندم را در بین کشورهای تولیدکننده انرژی دارد؟

- الف) بیست و سوم
ب) سی و هشتم
ج) هشتم
د) دوازدهم

-۱۵۸

کشور ایران در زمینه علم انرژی هسته‌ای رتبه چندم را به ترتیب در جهان و منطقه را در سال ۲۰۲۰ میلادی از آن خود کرده است؟

- الف) ۲۶ - ۸
ب) ۱۶ - ۸
ج) ۱۱ - ۱
د) ۳۱ - ۴

-۱۵۹

به گزارش پایگاه استنادی اسکوپوس در سال ۲۰۲۰ میلادی کشور ایران در کدام زمینه رتبه اول منطقه را از آن خود کرده است؟

الف) علم انرژی‌های تجدیدپذیر

ب) علم انرژی هسته‌ای

ج) علم انرژی

د) همه موارد

۱۶۰-

به تعبیر چه کسی در دوره پهلوی انگلیسی‌ها این امر را کاملاً عادی و طبیعی می‌دانستند که انتخابات در ایران مطابق نظر و خواسته‌های خودشان صورت بگیرد؟

الف) حسین فردوست

ب) شهید مطهری

ج) آیت‌الله طالقانی

د) محمدرضا پهلوی

۱۶۱-

کدام گزینه در مورد وضعیت انتخابات به گفته اسدالله علم در دوران پهلوی اول و دوم درست نمی‌باشد؟

الف) نبود آزادی انتخابات

ب) بی ارزش بودن حقوق سیاسی مردم

ج) مداخلات گسترده بیگانگان

د) انتخابات با آزادی نسبی

۱۶۲-

در کشورهای اروپایی کدام اقدام مجازات

سنگین و زندان و جرائم نقدی دارد؟

الف) شورش خیابانی

ب) اهانت به نام خدا

ج) انکار هولوکاست

د) برهم زدن نظم عمومی

۱۶۳-

به تعبیر باری رویین ، تحلیلگر آمریکایی، در دوران سلطنت پهلوی در عرصه و معرفی فرهنگ و تمدن غربی به مردم ایران کدام جنبه های این فرهنگ انتخاب می شد؟

الف) مصرف گرایی

ب) گسترش سبک زندگی غربی

ج) بدترین و مبتذل ترین جنبه ها

د) توسعه علم و فناوری غرب

۱۶۴-

به گفته چه کسی در دوران سلطنت پهلوی فیلمهای آمریکایی که بیشتر از انواع مبتذل آن بودند، بیش از ۳۰ درصد برنامه های تلویزیونی و پرده های سینما را اشغال کرده بود؟

الف) آنتونی پارسونز، سفیر سابق انگلیس

ب) امام خمینی (ره)

ج) باری روبین، تحلیلگر آمریکایی

د) شهید مطهری

۱۶۵-

به گفته ژان لوروریه، روزنامه نگار فرانسوی، در کتاب ایران بر ضد شاه سال ۱۳۵۸، چه چیزی در ردیف اول پاسخ مردم در مورد انتقاد و سرزنش از رژیم پهلوی می باشد؟

الف) وابستگی به غرب

ب) ترویج فرهنگ غربی

ج) فساد و انحطاط اخلاقی رژیم

د) قحطی و کمبود مواد غذایی

۱۶۶-

هدف و برنامه اصلی سردمداران رژیم پهلوی چه بود؟

الف) توسعه تجارت با غرب

ب) از بین بردن معنویت و دینداری در ایران

(ج) توسعه علم و فناوری
(د) گسترش فرهنگ غربی

۱۶۷-

در دوران پهلوی تعداد کدام یک از مشاغل در تهران بیش از ۳ برابر کتابخانه‌های کل کشور بود؟

- (الف) استاد دانشگاه
- (ب) مشروب فروش
- (ج) کتاب فروش
- (د) روز معلم

۱۶۸-

تعداد کدام یک از مراکز بیش از ۵ برابر تعداد دانشگاه‌های کشور در دوران پهلوی بوده است؟

- (الف) داروخانه‌ها
- (ب) کارخانه‌ها
- (ج) خانه‌های فساد و کاباره
- (د) شرکت‌های صنعتی

۱۶۹-

تعداد کدام کارخانه ها در دوران پهلوی بیش از بقیه بود؟

الف) کارخانه های تولیدات صنعتی

ب) کارخانه های تولید قند و شکر

ج) کارخانه های تولید مشروبات الکلی

د) کارخانه های تولید منسوجات

۱۷۰-

کدام گزینه از نمونه های بارز غربی سازی و مبارزه با فرهنگ ملی مذهبی ایران توسط پهلوی بوده است؟

الف) تغییر مبنای تقویم از هجری به شاهنشاهی

ب) نامگذاری خیابان ها و میادین شهر به نام خاندان پهلوی

ج) نامگذاری عملیات های رزمی به نام حیوانات و حشی

د) همه موارد

۱۷۱-

به گزارش مرکز نظرسنجی دانشگاه مریلند ،

کدام شخصیت در صدر محبوب ترین شخصیت های مردم ایران می باشد؟

الف) شهید مطهری

ب) حاج قاسم سلیمانی

ج) پروفسور سمیعی

د) دکتر علی شریعتی

۱۷۲-

به تعبیر چه کسی، "جهانیان به برکت انقلاب اسلامی ایران، یافته اند که تنها راه سعادت اسلام است"؟

الف) دکتر علی شریعتی

ب) شول - لاتور، نویسنده آلمانی

ج) امام خمینی (ره)

د) آلبر کامو، نویسنده فرانسوی

۱۷۳-

در سالهای اخیر بیشترین نامگذاری پسر متولد شده در انگلیس کدام نام میباشد؟

الف) جرج

ب) دنیل

(د) الكس

(ج) محمد

-۱۷۴

كدام کشور جزو ۱۰ کشور پر طلاق دنیا می باشد؟

(ب) ترکیه

(الف) هند

(د) ایران

(ج) آمریکا

-۱۷۵

به گزارش بخش مبارزه با جرائم و مواد مخدر سازمان ملل متحد (UNODC)، نرخ ارتکاب قتل و تجاوز در کدام کشور نسبت به سایر کشورهای دنیا بسیار بالاتر است؟

(ب) آلمان

(الف) ایران

(د) آمریکا

(ج) اسپانیا

-۱۷۶

بنا بر گزارش موسسه تحقیقاتی پیو (PEW) کدام کشور دارای بالاترین تعداد زندانی ها در دنیا می باشد؟

(ب) تایلند

(الف) روسیه

(د) ایالات متحده آمریکا

(ج) برزیل

-۱۷۷

محمدرضا پهلوی در مصاحبه با خانم اوریانا فالانچی، خبرنگار ایتالیایی، در سال ۱۳۵۷ دیدگاه خود را در مورد زن چگونه بیان می‌کند؟

الف) زن عامل اصلی ایجاد آرامش در خانه است

ب) حضور زنان در فعالیت‌های سیاسی ضروری است

ج) در زندگی یک فرد، زن به حساب نمی‌آید مگر وقتی زیبا و دلریا باشد

د) زن در تربیت فرزندان نقش اصلی را ایفا می‌کند

-۱۷۸

دیدگاه امام خمینی (ره) به زن چگونه بود؟

الف) زن یک انسان بزرگ و مربی جامعه است

ب) زن بزرگی ویژه‌ای در جامعه دارد که اگر برتر از مرد نباشد، کمتر نیست

ج) زنان باید در عرصه‌های مختلف علمی، فرهنگی و سیاسی با قدرت تلاش کنند

د) همه موارد

۱۷۹-

این جمله را در بیان فضیلت مقام مادر چه کسی بیان می‌کند؟ " دامن مادر ، بزرگترین مدرسه‌ای است که بچه در آنجا تربیت می‌شود، حقوق بسیار مادرها را نمی‌توان شمرد و نمی‌توان به حق ادا کرد"

الف) دکتر علی شریعتی

ب) امام خمینی (ره)

ج) شهید مطهری

د) سیمین دانشور

۱۸۰-

کدام گزینه از سخنان مقام معظم رهبری در باب فضیلت مقام و شخصیت زن می‌باشد؟

الف) زن پیش‌خداوند متعال مثل مرد است

ب) در طی مراتب معنوی و الهی هیچ تفاوتی بین زن و مرد نیست

ج) در حقوق اجتماعی و حقوق شخصی و فردی بین زن و مرد تفاوتی وجود ندارد

د) همه موارد

-۱۸۱

طبق گزارش انجمن جهانی اقتصاد (WEF) جمهوری اسلامی ایران در عدالت آموزشی بین دختر و پسر مقام چندم جهان را کسب کرده است؟

- الف) هجدهم
ب) سی و دوم
ج) اول
د) دهم

-۱۸۲

بعد از انقلاب اسلامی ایران نهادهای مردمی با چه رویکردی توسط بانوان راه اندازی شده است؟

- الف) کارآفرینی
ب) خیریه ای
ج) پژوهشی
د) همه موارد

-۱۸۳

تعداد ورزشگاه های اختصاصی بانوان پس از انقلاب اسلامی چند برابر افزایش یافته است؟

- الف) ۱۵ برابر
ب) ۱۰ برابر
ج) ۳۰ برابر
د) ۲۰ برابر

-۱۸۴

کدام گزینه از اصول قانون اساسی در مورد رابطه زنان و قانون گذاری نمی باشد؟

الف) زنان منعی برای مشارکت در امر قانون گذاری ندارند

ب) بر پایه قانون اساسی اعضای شورای نگهبان لزومی ندارد که مرد باشند

ج) نمایندگان اقلیت های دینی در مجلس شورای اسلامی نباید زن باشند

د) بنابر اصل ۶۲ قانون اساسی، انتخاب کنندگان و انتخاب شوندهگان از نمایندگان مجلس شورای اسلامی به جنسیتی ویژه اختصاص ندارد

-۱۸۵

به گزارش کدام منبع خبری، زنان نویسنده در ایران در طول ده دهه گذشته ۱۳ برابر شده است و تقریباً برابر با تعداد امروز مردان است ، انقلاب اسلامی سال ۱۹۷۹ نقطه عطفی برای زنان ایرانی در تمام طیف ها بوده است.؟

الف) خبرگزاری کیهان ب) نیویورک تایمز

ج) خبرگزاری CNN د) خبرگزاری تسنیم

-۱۸۶

با توجه به گزارش رادیو ملی آمریکا (NPR) در خصوص رشد سریعتر درصد خودکشی در زنان نسبت به مردان در آمریکا، دلیل افزایش خودکشی زنان در غرب چیست؟

الف) بیماری های اعصاب و روان

ب) بحران های اقتصادی

ج) افزایش زن ستیزی در غرب

د) افزایش بیکاری زنان

-۱۸۷

بر اساس آمار مرکز ملی خشونت جنسی در آمریکا، در کدام کشور از هر ۴ دختر، یک دختر و از هر ۶ پسر، یک پسر پیش از ۱۸ سالگی در معرض سوء استفاده جنسی قرار می گیرند؟

الف) فرانسه

ب) آمریکا

ج) آلمان

د) ایران

-۱۸۸

بنابر آمار پایگاه داده تروریسم جهانی در سال ۲۰۱۷ میلادی، کمترین تعداد و تلفات عملیات تروریستی در کدام کشور می باشد؟

الف) بریتانیا

ب) آمریکا

ج) فرانسه

د) ایران

۱۸۹-

بالاترین تعداد پایگاه های نظامی در اطراف
مرزهای ایران مربوط به کدام کشور است؟

الف) عراق

ب) قطر

ج) آمریکا

د) ترکیه

۱۹۰-

کدام گزینه در مورد وضعیت نظامی ایران در
دوره پهلوی درست نمی باشد؟

الف) واردات تسلیحات نظامی گران قیمت و
بعضاً بدون کارایی

ب) خرید تسلیحات از درآمد حاصل از فروش
تولیدات صنعتی داخلی

ج) کنترل میزان تاسیسات نظامی و مخارج نظامی
ایران توسط آمریکا

د) وابستگی شدید ارتش به حضور مستشاران
خارجی

۱۹۱-

به تعبیر چه کسی در دوران پهلوی، مستشاران و کارکنان آمریکایی، نیروهای مسلح ایران و حقوق بگیر دولت ایران بودند، حقوق و مزایا، هزینه ایاب و ذهاب و مخارج تحصیل فرزندان آنها از طرف دولت ایران تامین می‌شد؟

(الف) امام خمینی(ره)

(ب) آنتونی پارسونز، سفیر سابق انگلیس

(ج) آیت الله طالقانی

(د) سولیوان، آخرین سفیر آمریکا در ایران

۱۹۲-

کشور ایران در دسترسی به تکنولوژی تولید پهپاد چندمین کشور جهان میباشد؟

(الف) بیست و چهارم

(ب) دوازدهم

(ج) چهارم

(د) سی و دوم

۱۹۳-

از بین موارد زیر، کدام کشور کمترین بودجه نظامی را دارد؟

(الف) انگلیس

(ب) ژاپن

ج) آمریکا

د) ایران

۱۹۴-

انواع مواجهه با حوادث، در بیان رهبر انقلاب،
در کدام گزینه آمده است؟

الف) فعال، عکس‌العملی

ب) انفعالی، ابتکاری

ج) عکس‌العملی، انفعالی

د) الف و ب

۱۹۵-

در کلام رهبر انقلاب، چه نوع مواجهه ای این
ویژگی‌ها را دارد؟

□ وقتی با یک حادثه ای روبه‌رو می‌شویم، نگاه
کنیم و ببینیم در قبال این حادثه و برای دفع
و رفع آن، برای تضعیف آن و یک جاهایی برای
تقویت آن، چه باید بکنیم و فکر کنیم ... □

الف) عکس‌العملی

ب) انفعالی و عکس‌العملی

ج) ابتکاری و فعالانه

د) گزینه الف و ب

۱۹۶-

در نوع مواجهه‌ی فعال و ابتکاری، کدام پیامبر با بافتن زره، توانست از حملات دشمن خود در امان بماند؟

الف) پیامبر اسلام

ب) حضرت عیسی

ج) حضرت داوود

د) حضرت ابراهیم

۱۹۷-

نمونه‌ی نوآوری و ابتکار رزمندگان در عملیات بیت المقدس کدام مورد است؟

الف) ساخت موشک

ب) عملیات H3

ج) عبور از رودخانه‌ی کارون

د) ساخت پل بعثت

۱۹۸-

اصلی‌ترین و مهم‌ترین ویژگی عملیات والفجر ۸، چه بود؟

الف) عبور غواصان از ارنودرود و شکستن خط

ب) انتخاب هوشمندانه‌ی منطقه‌ی فاو

ج) تاکتیک جدید برای فریب عراق

د) عملیات H3

۱۹۹-

در کدام عملیات، برای اولین بار، سوخت‌گیری
در هوا انجام شد؟

الف) عملیات طریق القدس

ب) عملیات بیت المقدس

ج) عملیات H3

د) عملیات فتح المبین

۲۰۰-

"حفر کانال به طول دو کیلومتر و با عمق یک
متر و هشتاد سانتی متر در تاریکی شب برای
نزدیک شدن به مواضع دشمن" در کدام
عملیات اتفاق افتاد؟

الف) آزادسازی خرمشهر ب) کربلای ۱

ج) بیت المقدس د) فرمانده کل قوا خمینی

۲۰۱-

پُر تکرارترین آیه ای که رهبر انقلاب در بیاناتشان از آن استفاده کرده اند کدام آیه است و تعداد دفعاتی که استفاده شده چه قدر است؟

الف) آیه ی تطهیر - ۲۳ بار

ب) ایه ی نصرت الهی - ۶۷ بار

ج) آیه های مربوط به بهشت - ۲۰ بار

د) آیه ی اکمال دین - ۳۵ بار

۲۰۲-

عبارت "حُضِّ الْعَمْرَاتِ لِلْحَقِّ"، مربوط به کدام دوگانه است؟ صفحه ۷۰

الف) دوگانه ی ترس و دلیری

ب) دوگانه ی نگاه مایوسانه و امیدوارانه

ج) دوگانه ی برخورد فعالانه و انفعالی

د) هیچ کدام

۲۰۳-

در نظر رهبر انقلاب، شجاع ترین چهره ی اسلام، چه کسی است؟ صفحه ۷۵

الف) امام علی

ب) امام حسن

ج) امام رضا

د) امام حسین

۲۰۴-

اولین مسلمانی که افسار بر دهانش بستند تا سخن حق نگوید چه کسی بود؟ ص ۷۷

الف) ابوذر

ب) عمار یاسر

ج) میثم تمار

د) سلمان فارسی

۲۰۵-

پاسخ معاویه به نامه حضرت علی علیه السلام که «علی! عده لشکریان من به عدد ستارگان آسمان است. مهیای نبرد باش» را چه کسی داد و چه گفت؟

الف) طرماح - علی علیه السلام خود به تنهایی خورشیدی است که ستارگان تو در برابرش نوری نخواهند داشت!

ب) زبیر - به جای نبرد با علی علیه السلام به فکر سازش و مذاکره با او باش!

ج) علی علیه السلام - ما را هر اسی از نبرد با شما نیست.

د) کمیل - از گفته خود پشیمان خواهی شد

ج) احمدشاه

د) مظفر الدین شاه

۲۰۸-

روز عاشورا، عمر بن سعد در رابطه با چه کسی گفت: «باهم ستیز نکنید، سوگند به خدا! یک نفر نمیتوانست این مرد را کشته باشد!»

الف) عابس بن شیبیب

ب) حر بن ریاحی

ج) زهیر بن قین

د) مسلم بن عوسجه

۲۰۹-

طبق گزارش نشریه آمریکایی نشنال اینترست در ۶ نوامبر ۲۰۱۸، چه چیزی بر روی ایران اثر نخواهد گذاشت؟

الف) تهدید به حمله نظامی

ب) انصراف تمام کشورها به خرید نفت ایران

ج) تحریم‌ها

د) وجود تهدیدهای تروریستی مثل داعش در

اطراف آن

-۲۱۰

این جمله از جرجی زیدان در مورد کیست؟
 « اگر بگویم مسیح از او بالاتر است، عقلم اجازه
 نمیدهد و اگر بگویم او از مسیح بالاتر است،
 دینم اجازه نمی دهد.»

الف) بنیامین

ب) راحیل

ج) ابراهیم علیه السلامد) علی علیه السلام

-۲۱۱

کدام شخصیت با شعار "شاه زنازاده است،
 خمینی آزاده است" مخالفت کرد و به چه دلیل
 مخالفت کرد؟

الف) دکتر شریعتی - دور از ادب بودن شعار

ب) حجه الاسلام خامنه ای - معلوم نیست زنازاده
 باشدج) دکتر بهشتی - دروغ است، او زنازاده نیست و
 احساسات خود را کنترل کنید. پیروزی را به هر
 قیمتی نمیخواهیم

د) هیچ کدام

-۲۱۲

این فتوا از آن کدام مرجع تقلید است؟

«اهانت به نمادهای برادران اهل سنت، از جمله
اتهام زنی به همسر پیامبر اسلام(ص) (عایشه)
که موجب خدشه وارد شدن به شرافت او می
شود، حرام است.»

الف) آیت الله بروجردی

ب) آیت الله صافی گلپایگانی


ج) آیت الله خویی

د) مقام معظم رهبری

فصل دوم: سوالات تخصصی

سوالات این فصل، معمولاً نیاز به رجوع به کتاب صعود چهل ساله و معجزه تولید دارد.^۱

۱ . به مسئولین برگزارکننده مسابقه پیشنهاد می‌شود که کتب "صعود چهل ساله" و "معجزه تولید" در اختیار شرکت‌کننده قرار گرفته و سوال از هر دو گروه همزمان پرسیده شود (بدون ذکر ۴گزینه) و هر کدام زودتر از داخل کتاب پاسخ را پیدا کرد امتیاز داشته باشد



۲۱۳-

به نقل از چه کسی رضاخان پهلوی یک عامل انگلیس بود و در این تردیدی نیست؟

الف) آیت الله طالقانی

ب) حسین فردوست، رئیس سازمان بازرسی شاهنشاهی

ج) آیت الله خامنه ای د) اسدالله علم

۲۱۴-

کدام گزینه از اهداف و اصول برنامه جامع همکاری راهبردی ۲۵ ساله ایران و چین می باشد؟

الف) ارتقای عملی روابط در سطح مشارکت جامع
راهبردی بر اساس اعلامیه دو رئیس جمهور در
بهمن ۱۳۹۴

ب) توسعه همه جانبه همکاری ها در عرصه های
تجاری، اقتصادی، سیاسی، فرهنگی، دفاعی و
امنیتی

ج) پیگیری منافع مشترک به صورت برد-برد
در روابط دو جانبه منطقه ای و بین المللی
د) همه موارد

۲۱۵-

کدام مورد از تصورات و القائات خلاف واقع
درباره برنامه راهبردی ۲۵ ساله ایران و چین
می باشد؟

الف) این سند قرارداد و معاهده نیست

ب) اشتراک نظر دو کشور در ارتباط با بسیاری از
مسائل منطقه ای و بین المللی به ویژه مبارزه با
یکجانبه گرایی از اهداف این برنامه است

ج) همکاری و تقویت زیرساخت های دفاعی و
مقابله با تروریسم از برنامه های سیاسی -
راهبردی این همکاری میباشد

د) تقویت همکاری های غیر نفتی با تمرکز بر

حوزه دانش بنیان از برنامه های اقتصادی این همکاری می باشد.

۲۱۶-

با وجود افزایش تولید ناخالص ملی و توسعه صادرات در کشور مکزیک در سال ۲۰۲۰ میلادی کدام مورد از عوامل موثر بر روند افزایش و نرخ رشد ۴۶ درصدی جمعیت زیر فقر مکزیک نمی باشد؟

الف) نیروی کار بسیار ارزان در مکزیک

ب) تاسیس خطوط تولید در مکزیک توسط شرکت های بزرگ جهانی

ج) اقتصاد وابسته به آمریکا

د) افزایش صادرات نفت خام

۲۱۷-

عامل بحران های مالی و سیاسی و اجتماعی و ورشکستگی کشورهای شرق آسیا در دهه ۱۹۹۰ میلادی کدام مورد است؟

الف) حذف تعرفه های تجاری

ب) عدم سرمایه گذاری در زیرساخت ها

ج) وابستگی به سرمایه گذاری خارجی

د) قطع صادرات به این کشورها

۲۱۸-

وابستگی در کدام زمینه منجر به قتل و تجاوز
های گسترده به زنان ژاپنی توسط سربازان
آمریکایی در خاک ژاپن شده است؟

الف) اقتصادی

ب) فرهنگی

ج) نظامی

د) سیاسی

۲۱۹-

با توجه به اینکه شاخص ضریب جینی [سنجش
میزان نابرابری در توزیع درآمد یا ثروت یک
جامعه میباشد، کاهش آن چه تاثیری بر عدالت
اجتماعی و فاصله طبقاتی دارد؟

الف) کاهش عدالت اجتماعی و افزایش فاصله
طبقاتی

ب) افزایش عدالت اجتماعی و کاهش فاصله
طبقاتی

ج) کاهش عدالت اجتماعی و فاصله طبقاتی

د) افزایش عدالت اجتماعی و فاصله طبقاتی

۲۲۰-

بنابر آمار رسمی بانک جهانی، در زمان پهلوی چند درصد از جمعیت کل ایران زیر خط فقر قرار داشتند و تا سال ۲۰۱۸ میلادی به چند درصد رسیده است و دلیل افزایش آن از آن سال به بعد چه بود؟

الف) ۳۵ درصد - ۲۰ درصد - کاهش واردات کالای خارجی

ب) ۴۰ درصد - ۱۸ درصد - تحریم های اقتصادی

ج) ۴۶ درصد - ۱۴ درصد - غربگرا بودن مسئولین دولت

د) ۲۶ درصد - ۱۶ درصد - کاهش صادرات کالای داخلی

۲۲۱-

به گزارش سازمان جهانی سلامت (WHO) میزان مرگ و میر ناشی از سوء تغذیه در ایران بعد از انقلاب اسلامی چه روندی داشته و اکنون نسبت به میانگین دنیا چگونه است؟

الف) روند افزایشی - بالاتر

ب) روند کاهشی - بالاتر

ج) روند کاهشی- پایین تر

د) روند افزایشی- پایین تر

۲۲۲-

به بیان جان فوران ، جامعه شناس و استاد دانشگاه کالیفرنیا در کتاب مقاومت شکننده در دوره پهلوی در دهه ۱۳۵۰ شمسی چند درصد از روستاها برق نداشتند؟

الف) ۲۵ درصد

ب) ۶۰ درصد

ج) ۴۷ درصد

د) ۹۶ درصد

۲۲۳-

در کتاب تاریخ ایران مدرن ، نوشته ی پروانده آبراهامیان، تاریخ شناس مشهور مقیم آمریکا، ایران در دهه ۱۳۵۰ در کدام بخش یکی از بدترین کشورها در خاورمیانه بود؟

الف) مرگ و میر کودکان

ب) نسبت پزشک به بیمار

ج) نرخ آموزش عالی

د) همه موارد

۲۲۴-

به گزارش بانک جهانی (world Bank) کشور ایران در کدام شاخص از زمینه امنیت غذایی بعد از انقلاب اسلامی تا سال ۲۰۱۸ میلادی رشد ۴ برابری داشته است؟

الف) تولید مواد غذایی

ب) کشاورزی و توسعه روستایی

ج) تولید محصولات زراعی

د) همه موارد

۲۲۵-

سرانه کالری روزانه عرضه شده در ایران بنابر ارزیابی سازمان جهانی غذا و کشاورزی (FAO) بعد از انقلاب اسلامی تا سال ۲۰۱۳ میلادی چه تغییری کرده است و در قیاس با متوسط جهانی چگونه است؟

الف) کاهش- پایین تر ب) افزایش- بالاتر

ج) ثابت- پایین تر د) کاهش- بالاتر

۲۲۶-

در ایران شاخص امید به زندگی از پنجاه سال در دوره پهلوی به چند سال بعد از انقلاب

اسلامی رسیده است و میزان آن نسبت به میانگین جهان چگونه است؟

الف) ۶۲ - پایین تر

ب) ۷۷ - بالاتر

ج) ۷۰ - بالاتر

د) ۵۸ - پایین تر

۲۲۷-

بنابر گزارش بانک جهانی میزان مرگ و میر کودکان زیر ۵ سال در هر ۱۰۰۰ نفر در ایران بعد از انقلاب اسلامی تا سال ۲۰۱۹ میلادی چه تغییری کرده است و میزان آن نسبت به میانگین جهان چگونه است؟

الف) افزایش یافته - بالاتر

ب) کاهش یافته - پایین تر

ج) کاهش یافته - بالاتر

د) افزایش یافته - پایین تر

۲۲۸-

میزان دسترسی کل مردم ایران به برق بعد از انقلاب اسلامی چه میزان می باشد و در مقایسه با میانگین جهانی چگونه است؟

الف) ۶۵ درصد - پایین تر

(ب) ۷۲ درصد - پایین تر

(ج) ۱۰۰ درصد □ بالاتر

(د) ۸۰ درصد - پایین تر

۲۲۹-

با استناد به آمار بانک جهانی، میزان دسترسی مردم ایران به برق نسبت به ۴۰ سال پیش چه تغییری کرده است؟

(الف) از ۳۰ درصد به ۷۰ درصد رسیده

(ب) از ۵۰ درصد به ۸۵ درصد رسیده

(ج) از ۱۶ درصد به ۱۰۰ درصد رسیده

(د) از ۲۵ درصد به ۷۵ درصد رسیده

۲۳۰-

با توجه به بررسی میزان تغییرات شاخص توسعه انسانی همه کشورهای دنیا از سال ۱۹۸۰ تا ۲۰۱۸ میلادی کدام کشور بیشترین میزان افزایش شاخص توسعه انسانی و رتبه اول در رشد این شاخص را در جهان از آن خود کرده است؟

(ب) آلمان

(الف) کره جنوبی

(ج) ایالات متحده (د) ایران

۲۳۱-

محمدرضا پهلوی برای ایجاد صنایع تولید کننده کالاهای مصرفی چه اقداماتی انجام داد؟

الف) رشد زیرساخت ها

ب) رشد علم و دانش فنی بومی

ج) تربیت نیروی انسانی متخصص

د) واردات صنایع مصرفی

۲۳۲-

این جمله نقل از کیست؟ به کمبود تجهیزات و مواد خام و وسایل ارتباطی، کمبود تکنسین هم اضافه شده بود، ما بیش از یک میلیون خارجی را به خدمت گرفته بودیم و سرانجام واردات، به رغم همه چیز، بی اندازه زیاد شد و سیر تورمی را موجب گردید که میخواستیم به هر قیمتی شده آن را مهار کنم.

ب) اسدالله

الف) آیت الله طالقانی

علم

د) محمدرضا پهلوی

ج) بنی صدر

۲۳۳-

سهم ایران از تولید علم دنیا از $۷/۰\%$ درصد در بیست سال پیش، به چند درصد در سال ۲۰۲۰ میلادی رسیده است؟ و میزان آن نسبت به سهم ما از جمعیت دنیا چه مقدار است؟

الف) ۱ درصد - $۱/۵$ برابر

ب) ۲ درصد - $۵/۰$ برابر

ج) ۲ درصد - ۲ برابر

د) ۱ درصد - $۵/۰$ برابر

۲۳۴-

بر اساس نتایجی که پایگاه استنادی اسکوپوس منتشر کرده است، تعداد مدارک و مستندات علمی ایران بعد از انقلاب اسلامی تا سال ۲۰۲۰ میلادی رشد چند برابری داشته و رتبه جایگاه علمی آن در دنیا چند است؟

الف) ۴۰ برابر - ۲۳ ب) ۳۵ برابر - ۲۰

ج) ۸۰ برابر - ۱۶ د) ۲۰ برابر - ۴۰

۲۳۵-

بر اساس گزارش پایگاه استنادی اسکوپوس در سال ۲۰۲۰ میلادی، کشور ایران در کدام

رشته رتبه شانزدهم جهان را دارد؟

الف) علوم نانو

ب) علوم بیوشیمی

ج) زیست مولکولی

د) همه موارد

۲۳۶-

طبق آمار پایگاه استنادی اسکوپوس در سال ۲۰۲۰ میلادی کشور ایران به ترتیب در رشته های علوم فیزیک، علوم ریاضی و علوم داروسازی رتبه چندم جهان میباشد؟

الف) ۲۰-۱۸-۱۰

ب) ۱۴-۱۲-۸

ج) ۲۵-۳۰-۲۱

د) ۴۶-۲۲-۱۲

۲۳۷-

طبق بررسی پایگاه اطلاعات علمی ISI، کشور ایران رتبه چندم را در سهم از مقالات داغ و پر استناد در سال ۲۰۱۹ میلادی از آن خود کرده است؟ و سهم ایران از مقالات با کیفیت نسبت به کل مقالات آن چگونه است؟

الف) رتبه ۱۷- بیشتر

ب) رتبه ۲۴- کمتر

ج) رتبه ۳۶- کمتر

د) رتبه ۲۰- بیشتر

۲۳۸-

طبق گزارش مرکز پژوهش‌های مجلس تا پایان اردیبهشت ۱۳۹۹، تعداد کسب و کارهای فناورانه در قالب شرکت‌های دانش‌بنیان، استارت‌آپ و فناور به چه تعداد رسیده است؟

- الف) بیش از ده هزار (ب) بیش از بیست هزار
ج) کمتر از پنج هزار (د) کمتر از دو هزار

۲۳۹-

کدام گزارش درباره سیاست‌های علوم فناوری و نوآوری در ایران در سال ۲۰۱۶ میلادی بیان می‌کند که ایران به متنوع‌ترین اقتصاد با کمترین وابستگی به منافع نفت و گاز در مقایسه با سایر کشورهای نفت‌خیز منطقه تبدیل شده است؟

- الف) خبرگزاری اقتصاد آنلاین
ب) مرکز پژوهش‌های مجلس شورای اسلامی
ج) گزارش آنکتاد (UNCTAD)
د) علمی و فناوری ریاست جمهوری

۲۴۰-

کشور ایران در زمینه ترابری خطوط ریلی جهان طبق گزارش بانک جهانی در سال ۲۰۱۸ میلادی رتبه چندم جهان را از آن خود کرده است؟

الف) ۳۱

ب) ۱۸

ج) ۱۱

د) ۲۰

۲۴۱-

بنابر آمار بانک جهانی میزان ترابری کالا از طریق خطوط ریلی در ایران بعد از انقلاب اسلامی تا سال ۱۳۹۵ چه روندی داشته و مقدار آن چند است؟

الف) روند کاهشی - ۲ برابر

ب) روند افزایشی - ۵ برابر

ج) روند کاهشی - ۴ برابر

د) روند افزایشی - ۶ برابر

۲۴۲-

با استناد بر آمار بانک جهانی تعداد مسافر جابجا شده و میزان بار جابجا شده از طریق خطوط هوایی ایران در ۴ سال اخیر به ترتیب چه مقدار رشد داشته است؟

الف) ۱۰ برابر - ۶ برابر

ب) ۱۲ برابر - ۱۰ برابر

ج) ۲۵ برابر - ۱۵ برابر

د) ۱۵ برابر - ۵ برابر

۲۴۳-

کدام گزینه در مورد رشد خطوط جاده ای ایران بعد از انقلاب اسلامی تا سال ۱۳۹۵ درست می باشد؟

الف) رشد ۴۰۴ برابری طول جاده های کشور

ب) رشد ۱۲۰۵ برابری جاده های روستایی

ج) رشد ۸ برابری آذراهای کشور

د) همه موارد

۲۴۴-

بنابر گزارش آژانس بین المللی انرژی منابع تامین انرژی در ایران از سال ۱۹۹۰ تا ۲۰۱۹ میلادی کدام است؟

الف) زغال سنگ - برق آبی

ب) فرآورده های نفت خام - گاز طبیعی

ج) سوخت هسته ای - بیومس

(د) همه موارد

۲۴۵-

طبق آمار آژانس بین‌المللی انرژی از سال ۱۹۹۰ تا ۲۰۱۹ میلادی، سرانه انرژی عرضه شده در ایران به ترتیب نسبت به کل کشورهای جهان و کل کشورهای عضو اتحادیه اروپا چگونه می‌باشد؟

الف) پایین‌تر - پایین‌تر ب) پایین‌تر - بالاتر

ج) بالاتر - بالاتر د) بالاتر - پایین‌تر

۲۴۶-

بر اساس آمارهای ارائه شده از سوی کدام نهاد، کشور ایران بعد از انقلاب اسلامی تا سال ۲۰۱۹ میلادی افزایش قابل توجهی در زمینه تولید فرآورده‌های پالایشگاهی و گاز طبیعی داشته است؟

الف) موسسه مطالعات و تحقیقات بین‌المللی تهران

ب) سازمان ملل متحد

ج) آژانس بین‌المللی انرژی

د) مرکز آمار ایران

-۲۴۷

کشور ایران در رتبه بندی کشورهای تولیدکننده گاز در سال ۲۰۱۵ میلادی بنابر گزارش آژانس بین‌المللی انرژی رتبه چندم دنیا را از آن خود کرده است؟

الف) هجدهم

ب) سوم

ج) ششم

د) بیست و سوم

-۲۴۸

بنابر آمار پایگاه استنادی اسکوپوس در سال ۲۰۲۰ میلادی رتبه کشور ایران در زمینه تولید مقالات علمی در حوزه انرژی به ترتیب در جهان و کشورهای منطقه غرب آسیا چندم می‌باشد؟

الف) ۱۶ - ۸

ب) ۱۱ - ۱

ج) ۲۳ - ۷

د) ۴۶ - ۵

-۲۴۹

به گزارش انجمن جهانی فولاد در سال ۲۰۲۰ میلادی کشور ایران رتبه چندم را در زمینه صنعت فولاد دارا می‌باشد؟

الف) سی و چهارم

ب) هجدهم

ج) دهم

د) بیست و سوم

۲۵۰-

به گزارش کدام سازمان، کشور ایران بعد از انقلاب اسلامی تا سال ۲۰۱۸ میلادی افزایش قابل توجهی در ارزش افزوده بخش صنعت داشته است؟

الف) خبرگزاری اقتصاد آنلاین

ب) سازمان مدیریت صنعتی

ج) بانک جهانی

د) سازمان ملی بهره‌وری ایران

۲۵۱-

بنابر گزارش کدام سایت آماری، کشور ایران در سال ۲۰۱۲ میلادی رتبه چهارم را در تولید سیمان از آن خود کرده است؟

الف) آمارهای اقتصادی ایران

ب) موسسه ملی آمار (INS)

ج) مرکز آمار ایران

د) مرکز آمار آمریکا

-۲۵۲

بر اساس گزارش بانک جهانی، کشور ایران بعد از انقلاب اسلامی تا سال ۲۰۱۸ میلادی در زمینه شاخص تولید مواد غذایی چه روندی داشته است و مقدار آن چند است؟

الف) روند افزایشی - ۱/۵ برابر

ب) روند کاهششی - ۲ برابر

ج) روند افزایشی - ۴ برابر

د) روند کاهششی - ۲/۵ برابر

-۲۵۳

طبق آمار سازمان بین‌المللی تولیدکنندگان وسایل نقلیه موتوری (OICA) در سال ۲۰۲۰ میلادی کشور ایران در زمینه تولید وسایل نقلیه در دنیا رتبه چندم را از آن خود کرده است؟

الف) سی و پنجم ب) هجدهم

ج) شانزدهم د) بیست و دوم

-۲۵۴

این گزارش از کدام منبع خبری می باشد؟
"ساواک نفرت انگیزترین و مخوف‌ترین نهاد"

حکومتی در بین مردم به شمار می‌آید و با داشتن قدرت نامحدود برای دستگیری و بازجویی، هزاران مخالف شاه را شکنجه و به قتل رسانده است"

الف) ایران نیوز
ب) روزنامه کیهان
ج) نشریه تایم (TIME)
د) خبرگزاری ایسنا

۲۵۵-

کدام گزینه در مورد فعالیت احزاب سیاسی در دوران پهلوی درست می‌باشد؟

الف) احزاب زیادی با رویکردی آزاد اندیشان فعالیت می‌کردند

ب) تنها حزب رستاخیز به عنوان تنها حزب کشور بود و نقش اصلی آن شاه بود

ج) زمینه فعالیت و بیان آزادانه گروه‌های مختلف فراهم شده بود

د) بیش از ۱۰۰ تشکل سیاسی با مجوز قانونی در حال فعالیت بودند

۲۵۶-

کدام گزینه در مورد فعالیت اقلیت‌های دینی (زرتشتی، کلیمی، ارمنه و مسیحی) در ایران

درست نمی باشد؟

الف) به رسمیت شناختن آزادی اقلیت های دینی در انجام مراسمات دینی خود بر اساس اصل سیزدهم قانون اساسی

ب) برخورداری از حق ایجاد تشکل های دینی بر اساس اصل ۲۶ قانون اساسی

ج) برخورداری از حق نمایندگی مجلس شورای اسلامی بر اساس اصل ۶۴ قانون اساسی

د) عدم برخورداری از حق شرکت در تمام انتخابات

۲۵۷-

اقلیت های دینی چند برابر مسلمانان به نسبت جمعیت، در ایران عبادتگاه دارند؟

الف) بیش از ۵/۰ برابر

ب) نزدیک به ۱/۵ برابر

ج) بیش از ۲ برابر

د) نزدیک به ۳/۵ برابر

۲۵۸-

اشرف پهلوی در مصاحبه با مجله زن روز در ۱۷

دی ۱۳۵۶ آینده زن ایرانی را چگونه پیش بینی میکند؟

الف) پیشرفت زنان در زمینه علم

ب) آموزش تعداد زنان در زمینه فعالیتهای ورزشی

ج) حذف دو واژه چادر و حجاب از کتاب های لغت

د) تعداد زنان در زمینه پزشکی

۲۵۹-

بنابر اسناد ارائه شده توسط نیویورک تایمز در سال ۲۰۰۱ میلادی، محمدرضا پهلوی در نامه نگاری با ملک فیصل، پادشاه وقت عربستان، چه توصیه‌ای برای حفظ تاج و تخت به شاه وقت سعودی می‌کند؟

الف) افزایش روابط با اروپا

ب) گسترش فرهنگ اروپایی در عربستان

ج) برگزاری دیسکو و آموزشگاه های مختلط دختر و پسر

د) افزایش روابط تجاری با ایران

۲۶۰-

در دوران پهلوی تعداد کدام گروه از زنان بیش

از سه برابر تعداد زنان دانشگاهی بود؟

الف) زنان ورزشکار

ب) متخصص زنان و زایمان

ج) زنان فعال فرهنگی

د) زنان بدکاره

۲۶۱-

بعد از انقلاب اسلامی با وجود تبلیغات گسترده بر ضد حجاب، تعداد زنان ورزشکار به صورت محبیه در مسابقات بین‌المللی چه تعداد می‌باشد؟

الف) ۵ هزار نفر ب) ۲۵۰۰ نفر

ج) ۱۲ هزار نفر د) ۷ هزار نفر

۲۶۲-

عناوین کتب مروج نماز در ایران قبل و بعد از انقلاب اسلامی به ترتیب چه تعداد می‌باشد؟

الف) ۱۵۰ عنوان - ۱۰۰۰ عنوان

ب) ۵۰ عنوان - ۸۰۰ عنوان

ج) ۱۰ عنوان - ۲۰۰۰ عنوان

د) عنوان ۲۵ - عنوان ۱۵۰۰

۲۶۳-

بر اساس نتایج پژوهش‌های مرکز تحقیقاتی پیو (PEW) از سال ۲۰۰۸ تا ۲۰۱۷ میلادی میزان گرایش افراد به مداومت در دعا خواندن روزانه به عنوان یکی از شاخص‌های مهم معنویت در ایران چند درصد می باشد؟

الف) ۵۵ درصد

ب) ۸۷ درصد

ج) ۶۰ درصد

د) ۷۵ درصد

۲۶۴-

بر اساس گزارش موسسه تحقیقاتی پیو (PEW) روند تغییرات جمعیت مسلمانان در ایالات متحده آمریکا از سال ۲۰۰۷ تا ۲۰۱۷ میلادی چگونه بوده و در سال ۲۰۱۷ به چه تعداد رسیده است؟

الف) روند افزایش - ۲ میلیون نفر

ب) روند کاهشی - ۵۰۰ هزار نفر

ج) روند ثابت - کمتر از ۱/۵ میلیون نفر

د) روند افزایشی - بیش از ۳ میلیون نفر

-۲۶۵-

موسسه تحقیقاتی پیو، روند تغییرات میزان زاد و ولد در میان مسلمانان و مسیحیان در سراسر جهان را تا سال ۲۰۳۵ میلادی چگونه پیش‌بینی کرده است؟

الف) تعداد کودکان متولد شده مسیحی بیشتر از کودکان متولد شده مسلمان خواهد بود

ب) تعداد کودکان متولد شده مسلمان بیش از کودکان متولد شده مسیحی خواهد بود

ج) تعداد کودکان متولد شده مسلمان برابر با تعداد کودکان متولد شده مسیحی خواهد بود

د) تعداد کودکان متولد شده مسلمان و مسیحی تغییر چندانی نخواهد داشت

-۲۶۶-

به گزارش کدام موسسه پژوهشی، جمعیت کل مسلمانان تا سال ۲۰۶۰ میلادی به جمعیت کل مسیحیان جهان خواهد رسید و به احتمال قریب به یقین قبل از اتمام قرن ۲۱، اسلام دین غالب جهان خواهد بود؟

الف) پژوهشکده مطالعات راهبردی

ب) موسسه تحقیقاتی پیو (PEW)

ج) پژوهشگاه علوم و فرهنگ اسلامی

د) موسسه جنر (jenner)

۲۶۷-

در دهه های اخیر میزان طلاق در کشورهای غربی چه تغییری کرده است و چند درصد می باشد؟

الف) افزایش- ۱۶۰ درصد

ب) کاهش- ۹۷ درصد

ج) کاهش- ۸۵ درصد

د) افزایش- ۲۵۱ درصد

۲۶۸-

بنابر گزارش نشریه آتلانتیک آمریکا، ۸۷ درصد از مجرمین آمریکا چه افرادی هستند؟

الف) افرادی با تحصیلات پایین

ب) افرادی با والدین معتاد

ج) افراد بزرگ شده با والدین مجرد

د) افرادی با وضعیت مالی زیر خط فقر

-۲۶۹

بنابر گزارش دیوان محاسبات آمریکا ، سالیانه ۴۱۱۸ دلار به ازای هر آمریکایی در چه موردی هزینه می شود؟

الف) گسترش زیر ساخت ها

ب) مبارزه با جرم و جنایت

ج) تحصیلات دانشگاهی

د) امکانات ورزشی

-۲۷۰

بنابر آمار موسسه جهانی آمار و ارزیابی سلامت (IHME) نرخ خودکشی در ایالات متحده آمریکا نسبت به میانگین جهانی چگونه است و از بین کشورهای زیر ، پایین ترین نرخ خودکشی را کدام کشور دارد؟

الف) بالتر - کره جنوبی ب) پایین تر - فرانسه

ج) بالتر - ایران د) پایین تر - چین

-۲۷۱

به گزارش مرکز کنترل و پیشگیری از بیماری دولت آمریکا (CDC)، سومین عامل بستری شدن افراد ۱۸ تا ۴۴ ساله در بیمارستانهای

آمریکا مربوط به کدام بیماری می باشد؟

الف) بیماری قلبی

ب) بیماری کلیوی

ج) بیماری روحی و روانی

د) بیماری سرطان

۲۷۲-

به گفته اردشیر زاهدی، داماد شاه و سفیر وقت ایران در آمریکا، محمد رضا پهلوی با دیدن چه صحنه ای به وضوح دست و پایشان می لرزید؟

الف) فقر مردم

ب) بیکاری جوان ها

ج) زنان و دختران مو طلایی

د) فاصله طبقاتی زیاد در کشور

۲۷۳-

بنابر آمار بانک جهانی نرخ بیسوادی زنان ایران در دوران پهلوی چند درصد بوده و بعد از انقلاب اسلامی در سال ۱۳۸۹ به چند درصد رسیده است؟

- الف) ۳۰ تا ۴۰ درصد - کمتر از ۳۰ درصد
 ب) ۲۵ تا ۴۵ درصد - کمتر از ۲۰ درصد
 ج) ۵۰ تا ۶۰ درصد - کمتر از ۱۰ درصد
 د) ۴۰ تا ۵۰ درصد - کمتر از ۱۵ درصد

۲۷۴-

به گزارش بانک جهانی از سال ۱۹۷۰ تا ۲۰۱۸ میلادی، کشور ایران رتبه چندم نسبت دختران به پسران در تحصیلات ابتدایی در دنیا را از آن خود کرده است؟

- الف) پانزدهم
 ب) بیست و چهارم
 ج) اول
 د) هشتم

۲۷۵-

نسبت دختران در کل دانشجویان کشور ایران در دهه پنجاه چند درصد بوده و در سالهای اخیر به چند درصد رسیده است؟

- الف) ۳۵ درصد - ۵۰ درصد
 ب) ۳۰ درصد - ۴۰ درصد
 ج) ۲۰ درصد - ۳۰ درصد
 د) ۲۵ درصد - ۴۶ درصد

۲۷۶-

نسبت تعداد زنان در اساتید و هیئت علمی دانشگاه‌های کشور ایران در دهه ۵۰ شمسی چند درصد بوده و در دهه ۹۰ به چند درصد رسیده است؟

الف) ۲۵ درصد - ۳۰ درصد

ب) ۱۴ درصد - ۳۰ درصد

ج) ۲۰ درصد - ۲۵ درصد

د) ۱۲ درصد - ۲۰ درصد

۲۷۷-

طبق آمار معاونت امور زنان و خانواده در سال ۱۳۹۷ چه تعداد سازمان‌های مردم‌نهاد مربوط به امور زنان در استانهای مختلف سطح کشور فعالیت می‌کنند؟

ب) ۱۵۰۰

الف) ۲۷۰۰

د) ۵۰۰

ج) ۱۰۰۰

۲۷۸-

تعداد مربیان ورزشی زن از ۹ نفر در دهه ۵۰ به چند نفر بعد از انقلاب اسلامی در دهه ۹۰ رسیده است؟

الف) ۱۵۰۰ نفر

ب) ۷۵۰۰ نفر

ج) ۳۵۰۰۰ نفر

د) ۲۰۰۰۰ نفر

۲۷۹-

در حوزه ورزش بانوان تعداد کدام گروه بعد از انقلاب اسلامی افزایش ۲۰۰۰ برابری داشته است؟

ب) داور زن

الف) سالن های ورزشی

د) بانوان فوتبالیست

ج) رشته ورزشی

۲۸۰-

میزان امید به زندگی بانوان در ایران بنا بر گزارش بانک جهانی در سال ۲۰۱۹ میلادی نسبت به میانگین دنیا چگونه و چند سال می باشد؟

الف) بالاتر - ۵۷ سال

ب) پایین تر - ۶۰ سال

ج) پایین تر - ۵۰ سال

د) بالاتر - ۷۷ سال

۲۸۱-

نسبت پزشکان متخصص زن در حوزه زنان و زایمان از ۱۶ درصد در دوره پهلوی به چند درصد بعد از انقلاب اسلامی رسیده است؟

الف) ۵۵ درصد ب) ۸۰ درصد

ج) ۹۸ درصد د) ۶۵ درصد

۲۸۲-

به گزارش بانک جهانی از سالهای ۱۹۹۰ تا ۲۰۱۷ میلادی میزان مرگ و میر مادران هنگام زایمان چند درصد تغییر کرده است؟

الف) ۴۰ درصد افزایش یافته

ب) ۶۰ درصد کاهش یافته

ج) ۹۰ درصد کاهش یافته

د) ۵۰ درصد افزایش یافته

۲۸۳-

بنابر گزارش منتشر شده توسط سازمان ملل متحد در سال ۲۰۱۷ میلادی درباره زنان سرپرست خانوار، در کشور های آمریکا و ایران به ترتیب چند درصد زنان سرپرست خانوار هستند؟

الف) ۲۰ درصد - ۳۵ درصد

ب) ۳۷ درصد - ۲۰ درصد

ج) ۴۷ درصد - ۱۲ درصد

د) ۴۰ درصد - ۲۵ درصد

۲۸۴-

در آمار منتشر شده توسط مرکز ملی خشونت جنسی در آمریکا، تعداد در معرض تجاوز قرار گرفتن زنان چند نفر می باشد؟

الف) ۱۰ از هر ۱۰۰ نفر

ب) ۵ نفر از هر ۵۰ نفر

ج) ۱ نفر از هر ۵ نفر

د) ۱۵ نفر از هر ۲۰۰ نفر

۲۸۵-

بنا بر بررسی های مرکز کنترل و پیشگیری از بیماری دولت آمریکا (CDC) ۲۹/۹ درصد از تجاوزات جنسی در کدام سنین می باشد؟

الف) ۳۰ تا ۴۵ سالگی

ب) ۱۱ تا ۱۷ سالگی

ج) ۲۰ تا ۳۵ سالگی

د) ۱۸ تا ۳۰ سالگی

۲۸۶-

کدام مورد در کاهش سهم بخش کشاورزی در تولید ناخالص ملی و تضعیف آن در زمان رژیم پهلوی تاثیری نداشت؟

الف) افزایش واردات محصولات کشاورزی

ب) کاهش صادرات محصولات تولیدی

ج) وابستگی صنایع مونتاژ به مواد اولیه

د) افزایش تعرفه واردات محصولات کشاورزی

۲۸۷-

با افزایش حجم تقاضا در زمان اوج درآمدهای نفتی، رژیم پهلوی چه اقدامی انجام داد؟

الف) افزایش واردات کالای خارجی

ب) افزایش صادرات کالای داخلی

ج) توسعه صنایع زیر ساختی

د) افزایش تولید داخلی

۲۸۸-

کدام مورد در وابستگی ۹۰ درصدی صنعت به واردات در دوران رژیم پهلوی تاثیری نداشت؟

ب) صنایع مونتاژی

الف) صنایع مصرفی

ج) کمبود آرمدهای نفتی (د) فناوری وارداتی

۲۸۹-

دلیل عدم کارایی و توسعه وارونه در صنایع نظیر ماشین سازی، فولاد و آلومینیوم با وجود صنایع زیر ساختی ایجاد شده با همکاری کشورهای غربی در دوران پهلوی چیست؟

الف) کمبود منابع نفتی و مالی

ب) افزایش رقابتی خارجی

ج) عدم پشتوانه علمی و نیروی متخصص

د) عدم اطلاع از بازار جهانی

۲۹۰-

کدام مورد از ویژگی‌های ساختار مصرفی و وابسته صنایع در دوران پهلوی دوم نیست؟

الف) تولید کمتر نسبت به ظرفیت

ب) افزایش وابستگی به واردات

ج) افزایش رقابت پذیری

د) رشد تصنعی و وارونه

۲۹۱-

این نظر محمدرضا پهلوی در مورد چه کسی است؟ («..... مثل مگس‌ها دائماً وزوز می‌کند.»)

الف) محمد مصدق ب) اسدالله علم

ج) کارتر رئیس‌جمهور آمریکا د) زن‌ها

۲۹۲-

شیوه رشد صنعتی در زمان پهلوی که موجب رشد تصنعی صنعت در آن بازه شد چه بود؟

الف) ایجاد صنایع زیرساختی

ب) تربیت نیروی متخصص

ج) ایجاد صنایع مصرفی وارداتی

د) تکیه بر دانش فنی بومی

۲۹۳-

برنامه محمد رضا پهلوی برای ایجاد زیرساخت لازم در صنعت پتروشیمی برای رقابت ایران در بازار جهانی پتروشیمی چه بود؟

الف) خودکفایی در تولید

ب) تربیت نیروی متخصص

ج) فروش منابع نفتی

د) ارتقای دانش و فناوری

۲۹۴-

کدام مورد از ویژگی‌های صنعت خودرو سازی در زمان محمدرضا پهلوی نیست؟

الف) مونتاژکاری

ب) تیراژ تولید پایین

ج) افزایش ارزش افزوده

د) قطعات وارداتی

۲۹۵-

کدام گزینه از اثرات توسعه متکی به سرمایه گذاری خارجی در ترکیه نمی‌باشد؟

الف) تضعیف زیر ساخته

ب) فروش شرکت‌های دولتی به بیگانه

ج) تضعیف بنگاه‌های اقتصادی داخلی

د) کاهش سود سرمایه گذاران خارجی

۲۹۶-

پیروی از چه سیاستی در دوره ی پس از کودتا طی سالهای ۲۰۰۰ تا ۲۰۰۲ توسط نخبگان غرب

گرای حاکم بر ترکیه منجر ایجاد بحران بدهی و تورم هولناک شد؟

الف) دولت‌گرایی ترکیه

ب) سیاست لیبرالیسم آمریکایی

ج) عدم سرمایه‌گذاری در زیرساخت‌ها

د) عدم نظارت بر کمپانی‌های خارجی در داخل

۲۹۷-

کدام مورد از نتایج رشد کاذب اقتصاد در ترکیه از محل استقرار انبوه خارجی در دهه ۱۹۹۰ میلادی نیست؟

الف) تورم بی‌سابقه

ب) اقتصاد آسیب‌پذیر

ج) وضعیت نامناسب توزیع درآمد

د) کاهش زیرساخت‌ها

۲۹۸-

نتیجه توافق ترکیه با صندوق بین‌المللی پول و دریافت تسهیلاتی مشروط به انجام اصلاحات نئولیبرالی برای رهایی از بحران و رکود اقتصادی در دهه ۱۹۸۰ میلادی چه بود؟

الف) ممنوعیت واردات به ترکیه

ب) کاهش واردات نسبت به صادرات

ج) بدهی سنگین و افزایش تورم

د) تراز تجاری مثبت ۱۰/۵

۲۹۹-

اولین پیمان چند جانبه بزرگ تجارت آزاد در دنیا موسوم به پیمان نفتا در سال ۱۹۹۴ میلادی میان سه کشور آمریکا، مکزیک و کانادا چه تاثیری بر صنعت کشاورزی مکزیک گذاشت؟

الف) افزایش یارانه کشاورزها

ب) افزایش رقابت با کشاورزان خارجی

ج) افزایش بیکاری کشاورزها

د) کاهش قیمت مواد غذایی

۳۰۰-

کاهش رسد سرانه درآمد و افزایش فقر در مکزیک طی سال‌های ۱۹۹۴ تا ۲۰۱۳ میلادی نتیجه اجرای چه سیاستی بود؟

الف) دریافت وام خصوصی خارجی

ب) خصوصی سازی بازار

ج) حذف تعرفه‌های تجاری

د) رها سازی صادرات

۳۰۱-

کدام مورد از نتایج اجرای سیاست تجارت آزاد و برنامه‌های تعدیل ساختاری تحت حمایت آمریکا در آرژانتین در دهه ۱۹۸۰ نیست؟

الف) فروش دارایی‌های دولتی به خارجی‌ها

ب) کاهش ارزش پول و انفجار بدهی

ج) واردات بی رویه و صدمه به صنایع داخلی

د) قطع صادرات به آرژانتین

۳۰۲-

چه عاملی آرژانتین را از دهمین کشور ثروت مند دنیا به کشوری با تورم ۱۲ هزار درصدی در دهه ۹۰ تبدیل کرد؟

الف) عدم ارتقا دانش و فناوری

ب) عدم نظارت بر کمپانی‌های خارجی در داخل

ج) آزاد سازی تجارت

د) کاهش ذخایر ارزی

۳۰۳-

کدام گزینه از آثار اجرای مکتب اقتصادی نئولیبرالیسم توسط امریکا در کشور شیلی نمی باشد؟

- الف) تشدید فاصله طبقاتی و ابرتورم ۱۳۴ درصدی
- ب) افزایش فقر، بیکاری و گرسنگی
- ج) ورشستگی سرمایه گذاران خارجی
- د) کاهش تولید ناخالص ملی و رشد اقتصادی

۳۰۴-

اقدام کشورهای سلطه گر غربی در قالب گروه جی ۷ برای شکستن اتحاد کشورهای در حال توسعه بعد از سال های استعمار زدایی چه بود؟

- الف) کودتای نظامی
- ب) قطع صادرات به این کشورها
- ج) مقروض کردن آنها با اعطای وام
- د) عدم سرمایه گذاری در این کشورها

۳۰۵-

کدام از قوانین کشورهای جنبش عدم تعهد و گروه جی ۷۷ به منظور قطع وابستگی اقتصادی

به کشورهای غربی می‌باشد؟

الف) عدم واردات کالای خارجی

ب) مدرن سازی صنایع

ج) ملی کردن سرمایه‌های ملی

د) کاهش وابستگی نظامی

۳۰۶-

پس از جنگ جهانی دوم آمریکا با اجرای کودتا در کشورهای تازه استقلال یافته چه اهدافی را دنبال می‌کرد؟

الف) مبارزه با ملی‌گرایی و استقلال این کشورها

ب) جلوگیری از رشد علمی این کشورها

ج) کنترل صادرات این کشورها

د) ممنوعیت واردات به این کشورها

۳۰۷-

کدام مورد جزء عوامل موثر در عدم صنعتی شدن و توسعه یافتگی کشورهای آمریکای لاتین بعد از جنگ جهانی دوم نیست؟

الف) صادرات مواد خام اولیه

- ب) واردات کالای پیشرفته صنعتی
- ج) وابستگی اقتصادی به غربی‌ها
- د) وضع تعرفه‌های سنگین بر واردات

۳۰۸:

اقدام ژنرال پارک برای دست یابی به خوداتکایی نظامی و خدکفایی اقتصادی که منجر به استقلال کره ی جنوبی از سلطه آمریکا و پیشرفت صنعتی آن شد، چه بود؟

- الف) دریافت تسهیلات مالی خارجی
- ب) آزاد سازی تجارت
- ج) افزایش سرمایه‌گذاران خارجی
- د) حمایت از بازار داخلی

۳۰۹-

ژاپن در مقابله با تورم چند صد درصدی و بهم خوردن تعادل بازار پس از جنگ جهانی دوم چه اقدامی کرد که منجر شد به مطرح‌ترین کشور صنعتی دنیا تبدیل شود؟

- الف) افزایش میزان واردات
- ب) حمایت گسترده از تولید داخل

ج) روی آوردن به تجارت آزاد

د) افزایش سرمایه‌گذاری خارجی در کشور

۳۱۰-

پس از جنگ جهانی دوم، سیاست تحمیل شده
ی لیبرال سازی اقتصادی ژاپن با هدف پاییند
کردن آن به تجارت آزاد از سوی آمریکا چه
نتایجی برای ژاپن به دنبال داشت؟

الف) افزایش تولیدات صنعتی

ب) افزایش تورم

ج) کاهش واردات کالای خارجی

د) افزایش وابستگی نظامی

۳۱۱:

کدام مورد از عوامل پیشرفت اقتصادی فرانسه
قبل از انقلاب این کشور نیست؟

الف) جاسوسی صنعتی

ب) ممنوعیت واردات کالای خارجی

ج) ممنوعیت مهاجرت کارگران ماهر

د) تجارت آزاد

۳۱۲:

عامل رکود بزرگ صنعتی فرانسه در طول قرن نوزدهم میلادی چه بود؟

الف) افزایش صادرات مواد خام

ب) کاهش تعرفه های وارداتی

ج) تشدید حمایت از صنایع داخلی

د) فناوری وارداتی

۳۱۳-

چه عاملی صنعت آلمان را از حد کپی کاری علمی به صنعتی پیشرفته در قرن ۱۹ میلادی تبدیل کرد؟

الف) وارد کردن تکنولوژی

ب) حمایت از صنایع کلیدی

ج) جذب نیروی ماهر از دیگر کشورها

د) سرمایه گذاری بر روی پیشرفت علمی و مهارت آموزی

۳۱۴-

کدام مورد تاثیر بسیاری در پیشرفت صنعتی آلمان در قرن ۱۸ و ۱۹ میلادی داشت؟

الف) کاهش میزان واردات

ب) جاسوسی صنعتی

ج) استفاده از کارگران ماهر دیگر کشورها

د) گزینه ب و ج

۳۱۵-

کدام گزینه جز سیاست های حمایت گرانه آمریکا جهت تقویت تولید داخلی به عنوان عامل موفقیت اقتصاد آنها پس از جنگ جهانی دوم نیست؟

الف) کنترل صادرات دیگر کشورها

ب) سرمایه گذاری در توسعه علمی کشور

ج) حمایت از ظرفیتهای داخلی مانند کشاورزی

د) ایجاد صنایع مصرفی

۳۱۶-

کدام مورد از عوامل موثر بر پیشرفت صنعتی و اقتصادی آمریکا و بیرون آمدن از تحت سلطه انگلستان طی سال های ۱۷۸۹ تا ۱۷۹۵ میلادی نیست؟

الف) حمایت از تولید داخل

- ب) ممنوعیت صادرات مواد خام
- ج) کاهش تعرفه بر کالاهای وارداتی
- د) تقویت ظرفیتهای درونی

۳۱۷-

ترویج قانون تجارت آزاد توسط اقتصاد دانان بریتانیایی در موج دوم انقلاب صنعتی چه تبعاتی برای دیگر کشورها داشت؟

- الف) کاهش یارانه های صادراتی به کالاها
- ب) افتادن کشورها در دام توسعه وابسته
- ج) کاهش تقاضای کالا نسبت به عرضه
- د) ممنوعیت صادرات به این کشورها

۳۱۸-

در تامین سرمایه اولیه لازم جهت فرایند صنعتی شدن نساجی بریتانیایی طی قرن های ۱۷ و ۱۸ میلادی کدام عامل بسیار موثر بود؟

- الف) درآمدهای صادراتی
- ب) ذخایر معدنی
- ج) دریافت وام های خارجی

د) طلا و نقره غارت شده از آمریکای لاتین

۳۱۹-

محور اصلاحاتی که رابرت والپول در سیاست های تجاری و اقتصاد انگلیس جهت ارتقای صنایع تولیدی به وجود آورد بر چه اساس بود؟

الف) تخصیص یارانه های صادراتی به کالاها

ب) کاهش تعرفه واردات مواد خام

ج) افزایش تعرفه واردات محصولات خارجی

د) همه موارد

۳۲۰-

چه عاملی انگلستان را از کشوری وابسته و وارد کننده ی تکنولوژی به کشوری قدرتمند در قرن ۱۴ و ۱۵ میلادی تبدیل کرد؟

الف) دریافت تسهیلات مالی خارجی

ب) حمایت از تولید ملی و ظرفیتهای داخلی

ج) افزایش صادرات پشم خام

د) ارتقای دانش و فناوری

۳۲۱-

علت تورم پایین و حفظ ارزش پول ملی عربستان طی سال‌های ۲۰۰۰ تا ۲۰۱۹ کدام مورد است؟

- الف) عدم وابستگی به درآمدهای نفتی
- ب) افزایش صادرات کالای داخلی
- ج) استقرار از نهادهای مالی خارجی
- د) کاهش واردات کالای خارجی

۳۲۲-

کدام سیاست رژیم پهلوی موجب قرار گرفتن توزیع به جای تولید به عنوان قطب توسعه در اقتصاد کشور در دهه ۱۳۴۰ شد؟

- الف) سرمایه‌گذاری در امر تولید
- ب) توسعه زیرساخت‌ها
- ج) اختصاص درآمدهای نفتی به واردات
- د) وارد کردن تکنولوژی

۳۲۳-

با رشد نقدینگی کشور از درآمدهای نفتی از سال ۱۳۵۳ تا ۱۳۵۶ در پی افزایش تقاضای کالا

، رژیم پهلوی چه اقدامی انجام داد؟

الف) افزایش صادرات کالای داخلی

ب) واردات انبوه کالای خارجی

ج) افزایش تولیدات داخلی

د) کاهش واردات کالای خارجی

۳۲۴-

کدام مورد باعث تضعیف تولیدات داخلی ایران

در دوران پهلوی در سال های ۱۳۵۳ تا ۱۳۵۶

شد؟

الف) کاهش تقاضای کالا و نقدینگی

ب) واردات انبوه کالاهای خارجی

ج) اعمال تعرفه های گمرکی بالا

د) کاهش سرمایه گذاری خارجی در کشور

۳۲۵-

اصلاحات ارضی در زمان محمدرضا پهلوی چه

تاثیری در سهم کشاورزی در تولید ناخالص ملی

و واردات کالاهای اساسی مانند برنج، گندم و

فرآورده های گوشتی داشت؟

الف) کاهش - افزایش

ب) کاهش- کاهش

ج) افزایش- کاهش

د) افزایش- افزایش

۳۲۶-

سیاست تحمیلی اصلاحات ارضی آمریکا به ایران در دوران محمدرضا پهلوی چه نتایجی در پی داشت؟

الف) وابستگی محصولات کشاورزی به واردات

ب) کاهش یارانه پرداختی به کشاورزها

ج) افزایش قیمت محصولات کشاورزی

د) افزایش امکان رقابت باکشورزان خارجی

۳۲۷-

کدام گزینه در مورد مفهوم اقتصادی « بیماری هلندی » درست نمی باشد؟

الف) بهره برداری بی رویه از منابع طبیعی، رکود بخش صنعت را به دنبال دارد.

ب) افزایش درآمد ناشی از منابع طبیعی، اقتصاد ملی را از حالت صنعتی خارج میکند.

ج) به علت عدم افزایش نرخ ارز در حد نرخ تورم،

صنعت در رقابت ضعیف می‌شود.

د) در شرایط افزایش تقاضا نسبت به عرضه، به افزایش تولیدات می‌پردازد.

۳۲۸-

کدام مورد از عوامل موثر بر کاهش ارزش پول

ایران در دوران قاجار نیست؟

الف) واردات بی‌رویه کالای خارجی

ب) کاهش تعرفه‌های وارداتی

ج) ضعف حکومت‌داری

د) کمبود ذخایر معدنی

۳۲۹-

اقدامات اساسی ایران پس از جنگ تحمیلی در

دوره سازندگی که کمک به ارتقای صنعت کشور

کرد چه بود؟

الف) وارد کردن فناوری

ب) افزایش زیرساخت‌ها

ج) خصوصی‌سازی شرکتهای دولتی

د) افزایش تعرفه واردات

۳۳۰-

ضعف و غفلت از ایجاد خطوط حمل و نقل در دوره پهلوی پس از انقلاب اسلامی چگونه جبران شد؟

- الف) افزایش ۲ برابری زیرساخت های ریلی
 ب) افزایش خطوط حمل و نقل هوایی و زمینی
 ج) رشد طولی آزاد راههای کشور
 د) همه موارد

۳۳۱-

به گزارش سازمان جهانی مالکیت فکری (WIPO) ، رتبه کشور ایران در تعداد دانش آموختگان رشته های مرتبط با صنعت و فناوری در سال ۲۰۱۷ کدام است؟

- الف) دوازدهم
 ب) هشتم
 ج) سی و چهارم
 د) دوم

۳۳۲-

به گزارش کدام منبع خبری در سال ۲۰۱۶ ، کشور ایران دارای اقتصاد متنوع ، نظام آموزشی قوی و فرهنگ ریشه دار کارآفرینی می باشد؟

- الف) خبرگزاری ایسنا
 ب) خبرگزاری فارس

ج) مکنزی، بنگاه معتبر مشاوره مدیریت در جهان

د) ایران اینتر نشنال

۳۳۳-

با برطرف کردن کدام یک از چالش های جهش تولید می توان با تولید علم و فناوری های جدید و به کار گیری آن در تولیدات صنعتی موجب پیشرفت صنعت و تولید کشور شد؟

الف) محیط کسب و کار نامطلوب

ب) تحریم ها

ج) ارتباط ضعیف صنعت و دانشگاه

د) سرمایه گذاری در زمینه های مضر

مسئولین برگزاری مسابقات
جهت دریافت پاسخنامه‌ها
به ادمین کانال سعدا

soada_ir

در ایتا یا تلگرام پیام
ارسال فرمایند.